



Series &RQPS/S

SET~3

रोल नं.							
Roll No.							

प्रश्न-पत्र कोड **58/S/3**
Q.P. Code

परीक्षार्थी प्रश्न-पत्र कोड को उत्तर-पुस्तिका के मुख-पृष्ठ पर अवश्य लिखें ।

Candidates must write the Q.P. Code on the title page of the answer-book.

नोट / NOTE :

- (i) कृपया जाँच कर लें कि इस प्रश्न-पत्र में मुद्रित पृष्ठ 27 हैं ।
Please check that this question paper contains **27** printed pages.
- (ii) कृपया जाँच कर लें कि इस प्रश्न-पत्र में 34 प्रश्न हैं ।
Please check that this question paper contains **34** questions.
- (iii) प्रश्न-पत्र में दाहिने हाथ की ओर दिए गए प्रश्न-पत्र कोड को परीक्षार्थी उत्तर-पुस्तिका के मुख-पृष्ठ पर लिखें ।
Q.P. Code given on the right hand side of the question paper should be written on the title page of the answer-book by the candidate.
- (iv) कृपया प्रश्न का उत्तर लिखना शुरू करने से पहले, उत्तर-पुस्तिका में प्रश्न का क्रमांक अवश्य लिखें ।
Please write down the serial number of the question in the answer-book before attempting it.
- (v) इस प्रश्न-पत्र को पढ़ने के लिए 15 मिनट का समय दिया गया है । प्रश्न-पत्र का वितरण पूर्वाह्न में 10.15 बजे किया जाएगा । 10.15 बजे से 10.30 बजे तक छात्र केवल प्रश्न-पत्र को पढ़ेंगे और इस अवधि के दौरान वे उत्तर-पुस्तिका पर कोई उत्तर नहीं लिखेंगे ।
15 minute time has been allotted to read this question paper. The question paper will be distributed at 10.15 a.m. From 10.15 a.m. to 10.30 a.m., the students will read the question paper only and will not write any answer on the answer-book during this period.

अर्थशास्त्र
ECONOMICS



निर्धारित समय : 3 घण्टे

अधिकतम अंक : 80

Time allowed : 3 hours

Maximum Marks : 80



सामान्य निर्देश :

निम्नलिखित निर्देशों को ध्यानपूर्वक पढ़िए और उनका पालन कीजिए :

- (i) इस प्रश्न-पत्र में 34 प्रश्न हैं। सभी प्रश्न अनिवार्य हैं।
- (ii) यह प्रश्न-पत्र दो खण्डों में विभाजित है :
खण्ड क – समष्टि अर्थशास्त्र
खण्ड ख – भारतीय आर्थिक विकास
- (iii) इस प्रश्न-पत्र में 20 बहुविकल्पीय प्रकार के प्रश्न हैं। प्रत्येक प्रश्न 1 अंक का है।
- (iv) इस प्रश्न-पत्र में 4 लघु-उत्तरीय प्रकार-I के प्रश्न हैं। प्रत्येक प्रश्न 3 अंकों का है। इन प्रश्नों के उत्तर 60 से 80 शब्दों में लिखे जाने चाहिए।
- (v) इस प्रश्न-पत्र में 6 लघु-उत्तरीय प्रकार-II के प्रश्न हैं। प्रत्येक प्रश्न 4 अंकों का है। इन प्रश्नों के उत्तर 80 से 100 शब्दों में लिखे जाने चाहिए।
- (vi) इस प्रश्न-पत्र में 4 दीर्घ-उत्तरीय प्रकार के प्रश्न हैं। प्रत्येक प्रश्न 6 अंकों का है। इन प्रश्नों के उत्तर 100 से 150 शब्दों में लिखे जाने चाहिए।
- (vii) प्रत्येक प्रश्न के सभी भागों के उत्तर एक साथ लिखे जाने चाहिए।
- (viii) इसके अतिरिक्त, ध्यान दें कि दृष्टिबाधित परीक्षार्थियों के लिए फोटो तथा मानचित्र, आदि आधारित प्रश्नों के स्थान पर एक अन्य प्रश्न दिया गया है। इन प्रश्नों के उत्तर केवल दृष्टिबाधित परीक्षार्थी ही लिखें।
- (ix) प्रश्न-पत्र में कोई समग्र विकल्प नहीं है। यद्यपि, कुछ प्रश्नों में आंतरिक विकल्प का प्रावधान दिया गया है। इन प्रश्नों में से केवल एक ही प्रश्न का उत्तर लिखा जाए।

खण्ड क समष्टि अर्थशास्त्र

1. निम्नलिखित कथनों का ध्यानपूर्वक अध्ययन कीजिए : 1

कथन 1 : किसी द्वि-क्षेत्रक अर्थव्यवस्था में सकल राष्ट्रीय उत्पाद (GNP) सकल घरेलू उत्पाद (GDP) से अधिक हो सकता है।

कथन 2 : किसी द्वि-क्षेत्रक अर्थव्यवस्था में विदेशों से प्राप्त निवल कारक आय शून्य होती है।

दिए गए कथनों के आलोक में, निम्नलिखित में से सही विकल्प का चयन कीजिए :

- (A) कथन 1 सत्य है और कथन 2 असत्य है।
- (B) कथन 1 असत्य है और कथन 2 सत्य है।
- (C) कथन 1 और 2 दोनों सत्य हैं।
- (D) कथन 1 और 2 दोनों असत्य हैं।



General Instructions :

Read the following instructions carefully and follow them :

- (i) *This question paper contains 34 questions. All questions are compulsory.*
- (ii) *This question paper contains two sections :*
Section A – Macro Economics
Section B – Indian Economic Development
- (iii) *This question paper contains 20 Multiple Choice type questions. Each question carries 1 mark.*
- (iv) *This question paper contains 4 Short Answer Type-I questions. Each question carries 3 marks. Answer these questions in 60 to 80 words.*
- (v) *This question paper contains 6 Short Answer Type-II questions. Each question carries 4 marks. Answer these questions in 80 to 100 words.*
- (vi) *This question paper contains 4 Long Answer type questions. Each question carries 6 marks. Answer these questions in 100 to 150 words.*
- (vii) *Attempt all parts of a question together.*
- (viii) *In addition to this, note that a separate question has been provided for Visually Impaired candidates in lieu of questions having visual inputs, map etc. Such questions are to be attempted by Visually Impaired candidates only.*
- (ix) *There is no overall choice in the question paper. However, an internal choice has been provided in few questions. Only one of the choices in such questions has to be attempted.*

SECTION A

Macro Economics

1. Read the following statements carefully : 1

Statement 1 : Gross National Product (GNP) can be greater than Gross Domestic Product (GDP) in a two-sector economy.

Statement 2 : Net factor income from abroad is zero in a two-sector economy.

In the light of the given statements, choose the correct alternative from the following :

- (A) Statement 1 is true and Statement 2 is false.
- (B) Statement 1 is false and Statement 2 is true.
- (C) Both Statements 1 and 2 are true.
- (D) Both Statements 1 and 2 are false.



2. अन्य सभी कारक समान रहने पर, _____ के कारण किसी राष्ट्र के भुगतान संतुलन में व्यापार अधिशेष उत्पन्न हो सकता है।
(रिक्त स्थान को भरने के लिए सही विकल्प का चयन कीजिए) 1
- (A) जापान को कॉफी के निर्यात में वृद्धि
(B) बैंकिंग सेवाओं के आयात में कमी
(C) अनाज के निर्यात में कमी
(D) विदेशों को प्रेषित धन में वृद्धि
3. मान लीजिए कि, एक काल्पनिक अर्थव्यवस्था में, केन्द्रीय बैंक आरक्षित अनुपात को 10% से बढ़ाकर 25% कर देता है। प्रारंभिक जमा राशि को ₹ 1,000 करोड़ पर स्थिर रखते हुए, मुद्रा सृजन की कुल राशि ₹ _____ करोड़ हो जाएगी।
(रिक्त स्थान को भरने के लिए सही विकल्प का चयन कीजिए) 1
- (A) 10,000 (B) 4,000
(C) 6,000 (D) 5,000
4. किसी विशेष समय बिंदु पर भुगतान के उद्देश्य से जनता द्वारा रखी हुई मुद्रा की कुल मात्रा _____ होती है।
(रिक्त स्थान को भरने के लिए सही विकल्प का चयन कीजिए) 1
- (A) सावधि जमा (B) मुद्रा की माँग
(C) मुद्रा आपूर्ति (D) साख सृजन
5. _____ विनिमय दर प्रणाली के अंतर्गत, किसी राष्ट्र के केन्द्रीय बैंक व सरकार को विदेशी मुद्रा दर के निर्धारण में हस्तक्षेप का कोई अधिकार नहीं होता है।
(रिक्त स्थान को भरने के लिए सही विकल्प का चयन कीजिए) 1
- (A) स्थिर (fixed) (B) तिरती (floating)
(C) प्रबंधित तिरती (D) स्वर्ण मान



2. Keeping all other factors constant, trade surplus may arise in the Balance of Payments of a nation because of _____.

(Choose the correct alternative to fill in the blank) 1

- (A) rise in export of coffee to Japan
- (B) fall in import of banking services
- (C) fall in exports of cereals
- (D) rise in remittances to abroad

3. Suppose in a hypothetical economy, the Central Bank increases the reserve ratio from 10% to 25%. Keeping the amount of initial deposits constant at ₹ 1,000 crore, the amount of total money creation would be ₹ _____ crore.

(Choose the correct alternative to fill in the blank) 1

- | | |
|------------|-----------|
| (A) 10,000 | (B) 4,000 |
| (C) 6,000 | (D) 5,000 |

4. _____ is the total volume of money held by the public, for the purpose of disposing off, at a particular point of time.

(Choose the correct alternative to fill in the blank) 1

- | | |
|-------------------|----------------------|
| (A) Term deposits | (B) Demand for money |
| (C) Money supply | (D) Credit creation |

5. Under _____ exchange rate system, the Central Bank and Government of the country do not have any authority to interfere in the exchange rate determination.

(Choose the correct alternative to fill in the blank) 1

- | | |
|----------------------|-------------------|
| (A) fixed | (B) floating |
| (C) managed floating | (D) gold standard |



6. निम्नलिखित कथनों का ध्यानपूर्वक अध्ययन कीजिए :

1

कथन 1 : औसत उपभोग प्रवृत्ति (APC) कुल उपभोग में दिए गए परिवर्तन के संबंध के कुल आय में परिवर्तन को दर्शाती है।

कथन 2 : जब आय में परिवर्तन होता है, तो उपभोग में परिवर्तन (ΔC) कभी भी आय में परिवर्तन (ΔY) से अधिक नहीं हो सकता है।

दिए गए कथनों के आलोक में, निम्नलिखित में से सही विकल्प का चयन कीजिए :

- (A) कथन 1 सत्य है और कथन 2 असत्य है।
- (B) कथन 1 असत्य है और कथन 2 सत्य है।
- (C) कथन 1 और 2 दोनों सत्य हैं।
- (D) कथन 1 और 2 दोनों असत्य हैं।

7. किसी अर्थव्यवस्था में, आय के लाभ-अलाभ (break-even) स्तर का निर्धारण _____ पर किया जा सकता है।

- (i) सीमांत उपभोग प्रवृत्ति (MPC) = सीमांत बचत प्रवृत्ति (MPS)
- (ii) आय (Y) = उपभोग (C)
- (iii) बचत (S) = 0
- (iv) औसत उपभोग प्रवृत्ति (APC) = औसत बचत प्रवृत्ति (APS)

(रिक्त स्थान को भरने के लिए सही विकल्प का चयन कीजिए)

1

विकल्प :

- (A) केवल (i)
- (B) (i) और (ii)
- (C) (ii) और (iii)
- (D) (i) और (iv)

8. एक काल्पनिक अर्थव्यवस्था के लिए यह ज्ञात है कि :

औसत बचत प्रवृत्ति (APS) = 0.4

आय (Y) = ₹ 100 करोड़

स्वायत्त उपभोग (\bar{C}) = ₹ 10 करोड़

निवेश गुणक का मूल्य _____ होगा।

(रिक्त स्थान को भरने के लिए सही विकल्प का चयन कीजिए)

1

- (A) 5
- (B) 2
- (C) 4
- (D) 10



6. Read the following statements carefully : 1

Statement 1 : Average Propensity to Consume (APC) represents the change in total income with respect to a given change in total consumption.

Statement 2 : When income changes, change in consumption (ΔC) can never exceed the change in income (ΔY).

In the light of the given statements, choose the correct alternative from the following :

- (A) Statement 1 is true and Statement 2 is false.
- (B) Statement 1 is false and Statement 2 is true.
- (C) Both Statements 1 and 2 are true.
- (D) Both Statements 1 and 2 are false.

7. In an economy, break-even level of income can be determined, when _____.

- (i) Marginal Propensity to Consume (MPC) = Marginal Propensity to Save (MPS)
- (ii) Income (Y) = Consumption (C)
- (iii) Savings (S) = 0
- (iv) Average Propensity to Consume (APC) = Average Propensity to Save (APS)

(Choose the correct alternative to fill in the blank) 1

Alternatives :

- (A) Only (i)
- (B) (i) and (ii)
- (C) (ii) and (iii)
- (D) (i) and (iv)

8. For a hypothetical economy, it is known that :

Average Propensity to Save (APS) = 0.4

Income (Y) = ₹ 100 crore

Autonomous Consumption (\bar{C}) = ₹ 10 crore

The value of investment multiplier would be _____.

(Choose the correct alternative to fill in the blank) 1

- | | |
|-------|--------|
| (A) 5 | (B) 2 |
| (C) 4 | (D) 10 |



9. भुगतान संतुलन का _____ खाता शेष विश्व (ROW) पर वित्तीय दावों में निवल परिवर्तन को दर्शाता है।

(रिक्त स्थान को भरने के लिए सही विकल्प का चयन कीजिए)

1

- (A) व्यापार (B) पूँजी
(C) चालू (D) दृश्यमान

10. पहचान कीजिए, निम्नलिखित में से कौन-सा विकल्प उपभोग और प्रयोज्य आय के बीच आनुपातिक संबंध को दर्शाता है।

1

- (A) सीमांत उपभोग प्रवृत्ति (MPC)/औसत उपभोग प्रवृत्ति (APC)
(B) सीमांत उपभोग प्रवृत्ति (MPC) < औसत उपभोग प्रवृत्ति (APC)
(C) सीमांत उपभोग प्रवृत्ति (MPC) = औसत उपभोग प्रवृत्ति (APC)
(D) सीमांत उपभोग प्रवृत्ति (MPC) = 1

11. (क) “मुद्रा अवमूल्यन व मुद्रा मूल्यहास के निहितार्थ (आशय) समान हैं, परन्तु वे पृथक्-पृथक् स्रोतों से उत्पन्न होते हैं।”

क्या आप दिए गए कथन से सहमत हैं ? अपने उत्तर के समर्थन में वैध कारण दीजिए।

3

अथवा

(ख) चालू खाते के घाटे का अर्थ तथा इसके कम होने के पीछे के कारणों को रेखांकित कीजिए।

3

12. दिए गए आँकड़ों के आधार पर, साधन लागत पर शुद्ध मूल्य वृद्धि (NVA_{FC}) के मूल्य का अनुमान लगाइए :

3

क्रम सं.	मर्दे	राशि (₹ करोड़ में)
(i)	बिक्री	2,000
(ii)	कच्चे माल का क्रय	500
(iii)	स्टॉक में परिवर्तन	300
(iv)	सकल निवेश	500
(v)	शुद्ध अप्रत्यक्ष कर	200
(vi)	शुद्ध निवेश	300



9. The _____ account of Balance of Payments reflects the net changes in financial claims on the Rest of the World (ROW).

(Choose the correct alternative to fill in the blank)

1

- (A) Trade (B) Capital
(C) Current (D) Visible

10. Identify, which of the following options exhibits the proportional relation between consumption and disposable income.

1

- (A) Marginal Propensity to Consume (MPC)/Average Propensity to Consume (APC)
(B) Marginal Propensity to Consume (MPC) < Average Propensity to Consume (APC)
(C) Marginal Propensity to Consume (MPC) = Average Propensity to Consume (APC)
(D) Marginal Propensity to Consume = 1

11. (a) “Devaluation of currency and depreciation of currency have the same implications, but they originate from divergent sources.”

Do you agree with the given statement ? Give valid reason in support of your answer.

3

OR

- (b) Outline the meaning and reasons behind narrowing down of Current Account Deficit.

3

12. On the basis of the given data, estimate the value of Net Value Added at Factor Cost (NVA_{FC}) :

3

S. No.	Items	Amount (₹ in crore)
(i)	Sales	2,000
(ii)	Purchase of raw material	500
(iii)	Change in stock	300
(iv)	Gross Investment	500
(v)	Net Indirect Taxes	200
(vi)	Net Investment	300



13. (क) “जब प्रत्याशित समग्र माँग (AD) प्रत्याशित समग्र आपूर्ति (AS) से अधिक हो, तो परिणामस्वरूप अनपेक्षित मालसूची (Inventories) का संग्रह होता है।”

अपने उत्तर की पुष्टि के लिए वैध कारण देते हुए, दिए गए कथन का समर्थन अथवा खंडन कीजिए।

4

अथवा

- (ख) किसी काल्पनिक अर्थव्यवस्था के लिए निम्नलिखित को मानिए :

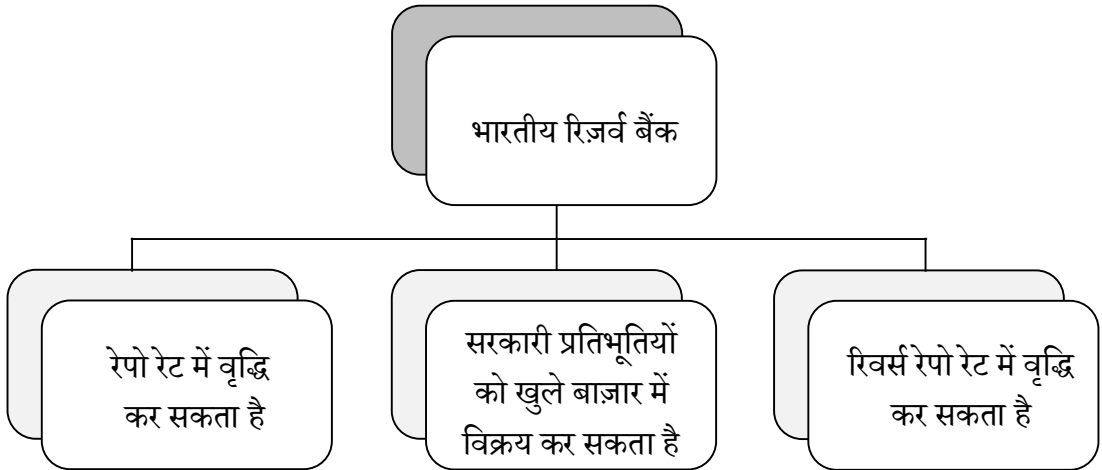
- (i) स्वायत्त उपभोग व्यय (\bar{C}) = ₹ 25 करोड़
- (ii) सीमांत बचत प्रवृत्ति (MPS) = 0.1
- (iii) आय का स्तर (Y) = ₹ 2,000 करोड़
- (iv) स्वायत्त निवेश (I) = ₹ 25 करोड़

क्या अर्थव्यवस्था संतुलित अवस्था में है ? वैध गणनाओं द्वारा अपने उत्तर का औचित्य सिद्ध कीजिए।

4

14. निम्नलिखित चित्र का अध्ययन कीजिए :

4



- (i) संकेतित स्थिति की पहचान कीजिए।
- (ii) इस स्थिति को सही करने के लिए ऐसे किन्हीं दो कदमों की व्याख्या कीजिए जो कि RBI के द्वारा उठाए जा सकते हैं।



13. (a) “When ex-ante Aggregate Demand (AD) is more than ex-ante Aggregate Supply (AS), it results in an accumulation of unintended inventories.”

Defend or refute the given statement, giving valid reasons in support of your answer.

4

OR

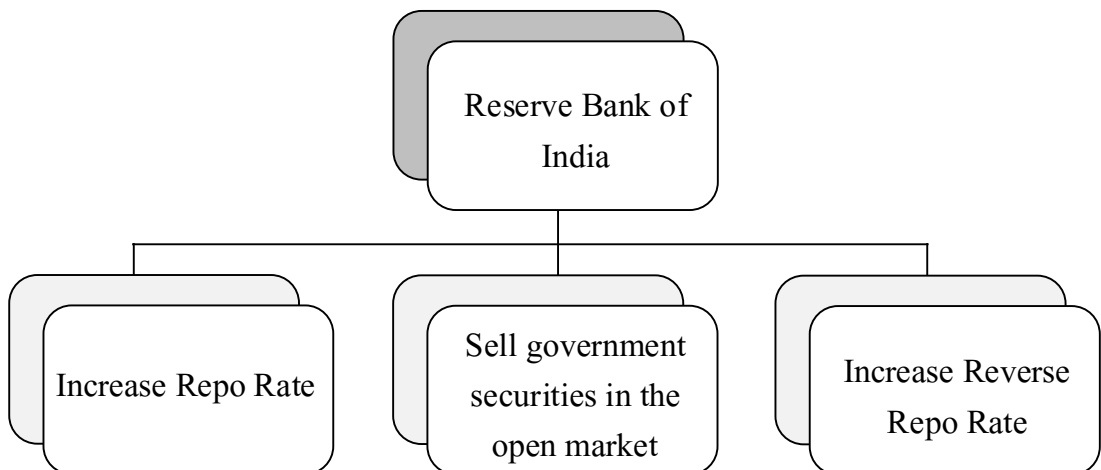
- (b) Assume the following for a hypothetical economy :
- (i) Autonomous Consumption Expenditure (\bar{C}) = ₹ 25 crore
 - (ii) Marginal Propensity to Save (MPS) = 0.1
 - (iii) Level of Income (Y) = ₹ 2,000 crore
 - (iv) Autonomous Investment (I) = ₹ 25 crore

Is the economy in equilibrium situation ? Justify your answer with valid calculations.

4

14. Study the following image :

4



- (i) Identify the indicated situation.
- (ii) Explain any two steps which may be taken by RBI to correct the situation.



15. “भारतीय रिज़र्व बैंक (RBI) सरकार के लिए वही कार्य करता है, जो कि वाणिज्यिक बैंक आम जनता के लिए करते हैं।”
भारत सरकार के लिए केन्द्रीय बैंक द्वारा किए गए ऐसे किन्हीं दो कार्यों की संक्षेप में चर्चा कीजिए। 4
16. (क) कारक आय व हस्तांतरण आय में अंतर स्पष्ट कीजिए। 3
- (ख) “बाह्यताओं को नकारात्मक अथवा सकारात्मक रूप में वर्गीकृत किया जा सकता है, परन्तु यह आवश्यक नहीं है कि सकल घरेलू उत्पाद से इनका सीधा संबंध हो।”
क्या आप दिए गए कथन से सहमत हैं ? अपने उत्तर के समर्थन में वैध कारण दीजिए। 3
17. (क) (i) “केन्द्रीय बजट 2023 – 24 में सूक्ष्म, लघु व मध्यम उद्यम (MSME) मंत्रालय को ₹ 22,138 करोड़ के आबंटन का प्रस्ताव किया गया था।”
उस उद्देश्य की पहचान व व्याख्या कीजिए, जिसे सरकार प्रस्तावित व्यय के साथ प्राप्त करने का प्रयास कर रही है। 4
- (ii) राजकोषीय घाटे व राजस्व घाटे की गणना करने के लिए प्रयुक्त सूत्रों का उल्लेख कीजिए। 2
- अथवा**
- (ख) (i) “कर राजस्व, राजस्व प्राप्तिओं का एक महत्वपूर्ण घटक है तथा इसे दो श्रेणियों में वर्गीकृत किया जा सकता है।”
मान लीजिए कि आप भारत सरकार के राजस्व विभाग के सदस्य हैं। करें की दो श्रेणियों को पहचानने एवं उनके बीच अंतर करने में अपने मित्र की सहायता कीजिए। 3
- (ii) “बजट के तीन प्रकार – घाटे का बजट, अधिशेष बजट व संतुलित बजट, हो सकते हैं।”
क्या आप दिए गए कथन से सहमत हैं ? अपने उत्तर के समर्थन में वैध कारण दीजिए। 3



15. “The Reserve Bank of India (RBI) performs the same function for the government as the commercial banks perform for the general public.”
Discuss briefly any two such functions performed by the Central Bank for the Government of India. 4
16. (a) Differentiate between factor income and transfer income. 3
- (b) “Externalities can be classified into negative or positive, however it is not necessary that they will be directly correlated with the Gross Domestic Product.”
Do you agree with the given statement ? Give valid reasons in support of your answer. 3
17. (a) (i) “The Union Budget 2023 – 24 had proposed an allocation of ₹ 22,138 crore to the Micro, Small and Medium Enterprise (MSME) Ministry.”
Identify and explain the objective that the government is trying to achieve with the proposed expenditure. 4
- (ii) State the formulae for calculating fiscal deficit and revenue deficit. 2
- OR**
- (b) (i) “Tax revenues, an important component of revenue receipts, can be further classified into two categories.”
Imagine yourself as a member of Department of Revenue of the Government of India. Help your friend to identify and differentiate between the two categories of taxes. 3
- (ii) “A budget can be deficit, surplus or balanced.”
Do you agree with the given statement ? Give valid reasons in support of your answer. 3



खण्ड ख

भारतीय आर्थिक विकास

18. _____ को कृषि उत्पादन से विविधीकरण के वैकल्पिक स्रोत के रूप में वर्गीकृत किया जा सकता है।

(रिक्त स्थान को भरने के लिए सही विकल्प का चयन कीजिए) 1

- | | |
|------------------|-------------------|
| (A) हरित क्रांति | (B) बागवानी |
| (C) जैविक कृषि | (D) परंपरागत कृषि |

19. निम्नलिखित कथनों को पढ़िए – अभिकथन (A) और कारण (R)। नीचे दिए गए विकल्पों में से सही विकल्प चुनिए : 1

अभिकथन (A) : मानव पूँजी का बाज़ार में व्यापार नहीं किया जा सकता, जबकि इसकी सेवाओं का व्यापार किया जा सकता है।

कारण (R) : मानव पूँजी अमूर्त प्रकृति की होती है।

विकल्प :

- (A) अभिकथन (A) और कारण (R) दोनों सत्य हैं और कारण (R), अभिकथन (A) की सही व्याख्या करता है।
- (B) अभिकथन (A) और कारण (R) दोनों सत्य हैं, लेकिन कारण (R), अभिकथन (A) की सही व्याख्या नहीं करता है।
- (C) अभिकथन (A) सत्य है, लेकिन कारण (R) असत्य है।
- (D) अभिकथन (A) असत्य है, लेकिन कारण (R) सत्य है।

20. चीन में लागू किए गए _____ उपाय से जनसंख्या के साथ-साथ लिंगानुपात में भी गिरावट आई थी।

(रिक्त स्थान को भरने के लिए सही विकल्प का चयन कीजिए) 1

- (A) पूँजीगत वस्तुओं के राष्ट्रीयकरण (Nationalisation)
- (B) पूँजीगत वस्तुओं के विराष्ट्रीयकरण (Denationalisation)
- (C) एकल-संतान नीति
- (D) द्वि-संतान नीति



SECTION B
Indian Economic Development

18. _____ can be classified as one of the alternative sources of diversification from farm output.

(Choose the correct alternative to fill in the blank)

1

- | | |
|----------------------|--------------------------|
| (A) Green Revolution | (B) Horticulture |
| (C) Organic Farming | (D) Conventional Farming |

19. Read the following statements – Assertion (A) and Reason (R). Choose the correct alternative given below :

1

Assertion (A) : Human capital cannot be traded in the market, whereas its services can be traded.

Reason (R) : Human capital is intangible in nature.

Alternatives :

- (A) Both Assertion (A) and Reason (R) are true and Reason (R) is the correct explanation of Assertion (A).
- (B) Both Assertion (A) and Reason (R) are true, but Reason (R) is **not** the correct explanation of Assertion (A).
- (C) Assertion (A) is true, but Reason (R) is false.
- (D) Assertion (A) is false, but Reason (R) is true.

20. _____ measure introduced in China led to the decline in its population as well as sex ratio.

(Choose the correct alternative to fill in the blank)

1

- (A) Nationalisation of capital goods
- (B) Denationalisation of capital goods
- (C) One-child norm
- (D) Two-child norm



21. भारत, चीन व पाकिस्तान में से _____ भौगोलिक दृष्टि से सबसे बड़ा राष्ट्र है, तथा इन तीन राष्ट्रों में इसका घनत्व सबसे _____ है।

(रिक्त स्थानों को भरने के लिए सही विकल्प का चयन कीजिए)

1

- (A) चीन, अधिक (B) पाकिस्तान, कम
(C) भारत, कम (D) चीन, कम

22. निम्नलिखित कथनों का ध्यानपूर्वक अध्ययन कीजिए :

1

कथन 1 : औपनिवेशिक सरकार द्वारा भारतीय कृषि का व्यवसायीकरण बलपूर्वक/दमनकारी रूप में प्रारंभ किया गया था।

कथन 2 : खाद्य फसलों के उत्पादन को लागू करने के पीछे अंग्रेजों के दोहरे उद्देश्य थे।

दिए गए कथनों के आलोक में, निम्नलिखित में से सही विकल्प का चयन कीजिए :

- (A) कथन 1 सत्य है और कथन 2 असत्य है।
(B) कथन 1 असत्य है और कथन 2 सत्य है।
(C) कथन 1 और 2 दोनों सत्य हैं।
(D) कथन 1 और 2 दोनों असत्य हैं।

23. 1965 में, माओ ने _____ का प्रारंभ किया, जिसके अंतर्गत छात्रों व पेशेवरों को ग्रामीण क्षेत्रों में काम करने तथा सीखने के लिए भेजा गया था।

(रिक्त स्थान को भरने के लिए सही विकल्प का चयन कीजिए)

1

- (A) ग्रेट लीप फॉरवर्ड अभियान
(B) कम्यून प्रणाली
(C) महान सर्वहारा सांस्कृतिक क्रांति
(D) मध्यकालिक विकास योजना



21. _____ is geographically the largest nation among India, China and Pakistan and its density is _____ among the three nations.

(Choose the correct alternative to fill in the blanks) 1

- (A) China, highest (B) Pakistan, lowest
(C) India, lowest (D) China, lowest

22. Read the following statements carefully : 1

Statement 1 : The commercialisation of Indian agriculture was coercively introduced by the colonial government.

Statement 2 : Britishers had a two-fold motive behind the enforcement of food crops production.

In the light of the given statements, choose the correct alternative from the following :

- (A) Statement 1 is true and Statement 2 is false.
(B) Statement 1 is false and Statement 2 is true.
(C) Both Statements 1 and 2 are true.
(D) Both Statements 1 and 2 are false.

23. In 1965, Mao introduced the _____ under which students and professionals were sent to work and learn from the countryside.

(Choose the correct alternative to fill in the blank) 1

- (A) Great Leap Forward Campaign
(B) Commune System
(C) Great Proletarian Cultural Revolution
(D) Medium Term Development Plan



24. अंग्रेजों ने भारत के आयात-निर्यात पर एकाधिकारी नियंत्रण बनाए रखा था, जबकि कुछ अन्य देशों जैसे कि _____ के साथ शेष की अनुमति थी।
(रिक्त स्थान को भरने के लिए सही विकल्प का चयन कीजिए) 1
- (i) चीन
(ii) सिलोन (श्री लंका)
(iii) पर्शिया (ईरान)
विकल्प :
(A) केवल (i) (B) (i) और (ii)
(C) (ii) और (iii) (D) (i), (ii) और (iii)
25. उस वैकल्पिक विपणन चैनल की पहचान कीजिए जो, मुख्यतः पंजाब, हरियाणा व राजस्थान में संचालित होते हैं।
(सही विकल्प का चयन कीजिए) 1
- (A) अपनी मंडी
(B) हड़पसार मंडी
(C) रायथू बाज़ार
(D) उझावर संधाई
26. निम्नलिखित में से सही कथन की पहचान कीजिए : 1
- (A) स्वतंत्रता उपरांत, भारत ने समाजवादी अर्थव्यवस्था अपनाई थी।
(B) भारतीय आर्थिक नियोजन को पंचवर्षीय योजनाओं के माध्यम से लागू किया गया था।
(C) भारत सरकार द्वारा औद्योगिक क्षेत्र के अंतर्गत भूमि सुधारों को लागू किया गया था।
(D) भारत में सकल घरेलू उत्पाद (GDP) में गिरावट के लिए औद्योगिक क्षेत्र में नीतिगत पहल जिम्मेदार थे।
27. 1978 में चीन में प्रारंभ किए गए आर्थिक सुधारों के अंतर्गत, विदेशी निवेशकों को आकर्षित करने के लिए _____ की स्थापना की गई थी।
(रिक्त स्थान को भरने के लिए सही विकल्प का चयन कीजिए) 1
- (A) प्रेषण क्षेत्रों (B) भूमि क्षेत्रों
(C) विशेष कम्यून क्षेत्रों (D) विशेष आर्थिक क्षेत्रों



24. Britain maintained a monopoly control over India's exports and imports while the rest was allowed with a few other countries like _____ .

(Choose the correct alternative to fill in the blank)

1

- (i) China
- (ii) Ceylon (Sri Lanka)
- (iii) Persia (Iran)

Alternatives :

- | | |
|--------------------|-------------------------|
| (A) Only (i) | (B) (i) and (ii) |
| (C) (ii) and (iii) | (D) (i), (ii) and (iii) |

25. Identify the alternate marketing channel that operates majorly in Punjab, Haryana and Rajasthan. (Choose the correct alternative)

1

- (A) Apni Mandi
- (B) Hadapsar Mandi
- (C) Rythu Bazars
- (D) Uzhavar Sandies

26. Identify the correct statement from the following :

1

- (A) India adopted the socialistic economic system after Independence.
- (B) Indian economic planning was implemented through Five Year Plans.
- (C) Land reforms under industrial sector were implemented by the Government of India.
- (D) Policy initiatives in the industrial sector were responsible for decline in Gross Domestic Product (GDP) in India.

27. Under the economic reforms introduced in China in 1978, _____ were set up to attract foreign investors.

(Choose the correct alternative to fill in the blank)

1

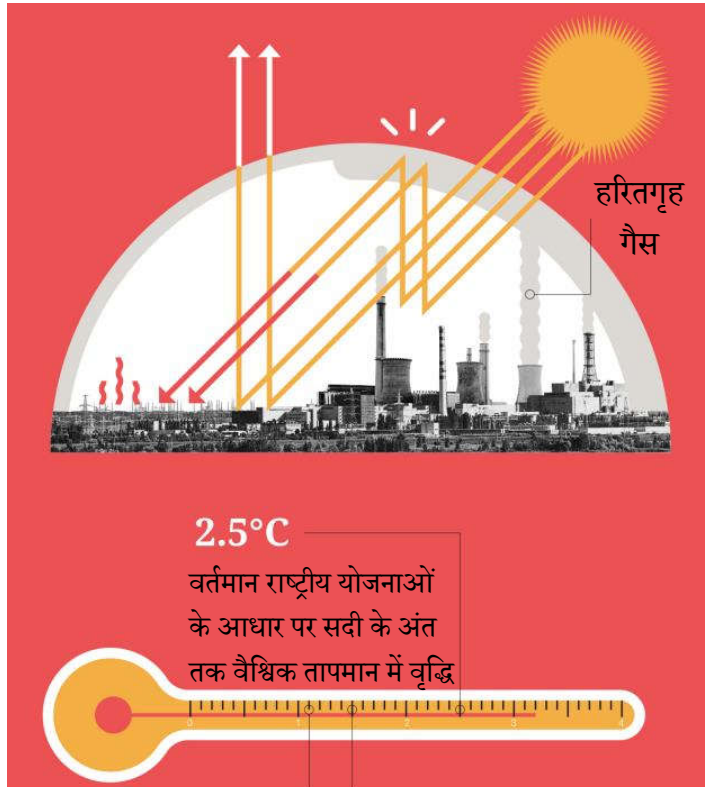
- | | |
|---------------------------|----------------------------|
| (A) Remittance Zones | (B) Land Zones |
| (C) Special Commune Zones | (D) Special Economic Zones |



28. (क) “हरित क्रांति ने भारत को खाद्यान्न में आत्मनिर्भर बना दिया है, परन्तु पारिस्थितिक (ecological) आधार पर इसकी आलोचना की गई है।”
क्या आप दिए गए कथन से सहमत हैं ? अपने उत्तर के समर्थन में वैध कारण प्रस्तुत कीजिए। 3

अथवा

- (ख) भारत में औपनिवेशिक सरकार द्वारा विकसित की गई आधारभूत-संरचना की किन्हीं तीन गतिविधियों का उल्लेख कीजिए। 3
29. दिए गए चित्र में दर्शाई गई परिस्थिति की पहचान कीजिए तथा इस समस्या पर नियंत्रण पाने के लिए किसी एक प्रभावी रणनीति की व्याख्या कीजिए। 3



नोट : निम्नलिखित प्रश्न केवल दृष्टिबाधित परीक्षार्थियों के लिए प्रश्न संख्या 29 के स्थान पर है।

वैश्विक उष्णता की समस्या पर प्रभावी ढंग से नियंत्रण पाने के लिए किसी एक रणनीति की व्याख्या कीजिए। 3



28. (a) “Green Revolution made India self-sufficient in food grains, but was criticized on ecological grounds.”

Do you agree with the given statement ? Present valid reasons in support of your answer.

3


OR

- (b) Enumerate any three infrastructural development activities undertaken by the colonial government in India.

3

29. Identify the situation depicted in the given figure and explain any one strategy to effectively overcome the problem.

3



Note : The following question is for the **Visually Impaired Candidates** only in lieu of Q. No. 29.

Explain any one strategy to effectively overcome the problem of global warming.

3



30. (क) “एक सुदृढ़ कृषि विपणन प्रणाली किसी भी राष्ट्र की कृषि-प्रणाली के लिए रीढ़ की हड्डी का काम करती है।”

इस दिशा में भारत सरकार द्वारा उठाए गए किन्हीं दो कदमों को सूचीबद्ध कर उपर्युक्त कथन का औचित्य सिद्ध कीजिए।

4

अथवा

- (ख) “विगत कुछ वर्षों में, भारत में परंपरागत कृषि से प्राकृतिक/जैविक कृषि की ओर स्थानांतरण देखा गया है।”

जैविक उत्पादों की ओर इस स्थानांतरण के पीछे के किन्हीं दो कारणों की संक्षिप्त चर्चा कीजिए।

4

31. “भारत में शिक्षा के विभिन्न स्तरों पर व्यय समान अनुपात में होता है।”

वैध कारण बताते हुए दिए गए कथन का समर्थन अथवा खंडन कीजिए।

4

32. निम्नलिखित आँकड़ों के आधार पर, चीन व पाकिस्तान के लिए रोजगार व उत्पादन में परिवर्तन की रूपरेखा प्रस्तुत कर चर्चा कीजिए :

4

रोजगार और GVA का क्षेत्रीय हिस्सा 2018 – 2019 में (%)

विभाग	GVA को योगदान			कार्यबल का वितरण		
	भारत	चीन	पाकिस्तान	भारत	चीन	पाकिस्तान
कृषि	16	7	24	43	26	41
उद्योग	30	41	19	25	28	24
सेवाएँ	54	52	57	32	46	35
कुल	100	100	100	100	100	100

स्रोत : मानव विकास रिपोर्ट 2019 : एशिया और प्रशांत 2019 के प्रमुख संकेतक।



30. (a) “A sound agricultural marketing system works as the backbone of any agro-system of any nation.”

Justify the above statement by listing any two steps taken by the Indian government in this direction. 4

OR

- (b) “Over the past few years, India has witnessed a shift from traditional conventional farming to natural/organic farming.”

Discuss briefly any two reasons behind this shift towards organic produce. 4

31. “Expenditure on different levels of education in India is in the same proportion.”

Defend or refute the given statement, giving valid reasons. 4

32. On the basis of the data given below, outline and discuss the shift in employment and output for China and Pakistan :

4

Sectoral Share of Employment and GVA (%) in 2018 – 2019

Sector	Contribution to GVA			Distribution of workforce		
	India	China	Pakistan	India	China	Pakistan
Agriculture	16	7	24	43	26	41
Industry	30	41	19	25	28	24
Services	54	52	57	32	46	35
Total	100	100	100	100	100	100

Source : Human Development Report 2019 : Key Indicators of Asia and Pacific 2019.



33. निम्नलिखित गद्य का ध्यानपूर्वक अध्ययन कीजिए :

जुलाई 1991 के बजट के साथ राष्ट्र को एक बाह्य-उन्मुख बाज़ार-आधारित अर्थव्यवस्था की ओर अग्रसर करने के पक्ष में एक स्पष्ट परिवर्तन आया था। बजट में प्रारंभ किए गए व्यापारिक उदारीकरण के कदम बहुत व्यापक थे, हालाँकि इनकी गति धीमी रही तथा उनमें कभी-कभी रुकावटें भी आती रहीं थीं।

1991 के सुधारों ने कुछ मध्यवर्ती आयातों व पूँजीगत वस्तुओं को छोड़कर सभी वस्तुओं पर आयात लाइसेंस को समाप्त कर दिया था।

उपभोक्ता वस्तुएँ, जो कि आयात शुल्क संग्रह का 30% हैं, लाइसेंस के अंतर्गत रहती हैं। मात्र एक दशक उपरांत, विश्व व्यापार संगठन (WTO) में भारत के व्यापारिक साझेदारों द्वारा एक सफल चुनौती के पश्चात् इन वस्तुओं को भी लाइसेंस से मुक्त कर दिया गया था।

वर्तमान में, पर्यावरण/स्वास्थ्य/सुरक्षा के आधार पर अस्वीकृत कुछ वस्तुओं को छोड़कर, सभी वस्तुओं को बिना लाइसेंस या अन्य प्रतिबंधों के आयात किया जा सकता है।

लाइसेंस हटाने के साथ, ये आयात शुल्क दरें आयात पर प्रभावी प्रतिबंध बन गईं थीं। इसलिए, आर्थिक सुधारों का एक प्रमुख कार्य आयात शुल्क दरों को कम करना रहा है। आयात शुल्क में कटौती मुख्य रूप से गैर-कृषि, औद्योगिक वस्तुओं तक ही सीमित है।

इसलिए, उदारीकरण इन वस्तुओं पर कठोरता से लागू होता है। आयात शुल्क में कमी शुल्क दरों में क्रमिक गिरावट के माध्यम से प्राप्त की गई है। आयात शुल्क बैंड की संख्या में कमी के माध्यम से आयात शुल्क संरचना के एक साथ युक्तिकरण ने इस दिशा में सहायता की थी।

दिए गए गद्य व सामान्य ज्ञान के आधार पर निम्नलिखित प्रश्नों के उत्तर दीजिए :

- (i) “1991 के बजट में प्रारंभ किए गए उदारीकरण सुधार अत्यंत व्यापक थे।”
1991 के व्यापारिक सुधारों में से किन्हीं दो व्यापार सुधारों की व्याख्या करते हुए दिए गए कथन का औचित्य सिद्ध कीजिए।

4

- (ii) ऐसे किन्हीं दो क्षेत्रों का उल्लेख कीजिए जिनमें आयात शुल्क में कटौती की गई थी।

2



33. Read the following text carefully :

With the July 1991 budget, there was a clear switch in favour of a move towards an outward-oriented, market-based economy. The liberalisation steps initiated in the budget were very comprehensive although the pace remained gradual and there were occasional hiccups.

The 1991 reforms did away with import licensing on all but a handful of intermediate inputs and capital goods.

Consumer goods, accounting for approximately 30% of tariff lines, remained under licensing. Only a decade later, after a successful challenge by India's trading partners at the World Trade Organisation (WTO), were these goods freed of licensing.

Today, except for a handful of goods that are disallowed on environmental/health/safety grounds, all goods may be imported without a license or other restrictions.

With the removal of licensing, the tariff rates became effective restrictions on imports. Therefore, a major task of the reforms has been to lower the tariff rates. Tariff reductions have been mainly confined to non-agricultural, industrial goods.

Therefore, the liberalization applies strictly to these goods. The reduction in tariffs has been achieved through a gradual compression of the tariff rates. A simultaneous rationalization of the tariff structure through a reduction in the number of tariff bands helped in this direction.

On the basis of the given text and common understanding, answer the following questions :

- (i) "The trade liberalization reforms initiated in 1991 budget were very comprehensive."

Justify the given statement explaining any two trade reforms introduced in 1991.

4

- (ii) State any two areas in which tariff reductions were introduced.

2



34. (क) (i) “जैसे-जैसे कोई अर्थव्यवस्था विकसित होती है, वैसे-वैसे अर्थव्यवस्था में नियोजित व्यक्तियों की संख्या में भी वृद्धि होती है; फिर भी 1991 के बाद से भारत इसके अपवाद के रूप में उभर कर सामने आया है।”
क्या आप दिए गए कथन से सहमत हैं ? अपने उत्तर के पक्ष में वैध तर्क प्रस्तुत कीजिए। 4
- (ii) उपयुक्त उदाहरण द्वारा प्रच्छन्न बेरोज़गारी की परिभाषा दीजिए। 2

अथवा

- (ख) (i) “नेहा एक बहुराष्ट्रीय कम्पनी में पिछले पाँच वर्षों से नियमित रूप से कार्यरत है।”
उपर्युक्त कथन में दर्शाए गए रोज़गार के प्रकार की पहचान कर संक्षेप में व्याख्या कीजिए। 3
- (ii) उस संकेतक का नाम बताइए, जिसका किसी राष्ट्र में रोज़गार की स्थिति का विश्लेषण करने में सामान्यतः उपयोग किया जाता है। इसके महत्त्व की भी चर्चा कीजिए। 3



34. (a) (i) “As an economy grows, the number of employed persons in an economy also increases; however, since 1991 India has come up as an exception to this.”

Do you agree with the given statement ? Give valid arguments in support of your answer. 4

- (ii) Define disguised unemployment with a suitable example. 2

OR

- (b) (i) “Neha has been working in a multinational corporation since the past five years on the payroll of the company”.

Identify and briefly explain the type of employment indicated in the above statement. 3

- (ii) Name the indicator that is generally used for analysing the employment situation in a country. Also discuss its importance. 3

Marking Scheme (Hindi Medium)
Strictly Confidential
(For Internal and Restricted use only)
Senior School Certificate Examination (Supplementary), July 2024
ECONOMICS (SUBJECT CODE – 030)
(PAPER CODE – 58/S/3)

General Instructions: -

1	You are aware that evaluation is the most important process in the actual and correct assessment of the candidates. A small mistake in evaluation may lead to serious problems which may affect the future of the candidates, education system and teaching profession. To avoid mistakes, it is requested that before starting evaluation, you must read and understand the spot evaluation guidelines carefully.
2	“Evaluation policy is a confidential policy as it is related to the confidentiality of the examinations conducted, Evaluation done and several other aspects. Its’ leakage to public in any manner could lead to derailment of the examination system and affect the life and future of millions of candidates. Sharing this policy/document to anyone, publishing in any magazine and printing in News Paper/Website etc may invite action under various rules of the Board and IPC.”
3	Evaluation is to be done as per instructions provided in the Marking Scheme. It should not be done according to one’s own interpretation or any other consideration. Marking Scheme should be strictly adhered to and religiously followed. However, while evaluating, answers which are based on latest information or knowledge and/or are innovative, they may be assessed for their correctness otherwise and due marks be awarded to them. In Class XII, while evaluating competency-based questions, please try to understand given answer and even if reply is not from marking scheme but correct competency is enumerated by the candidate, due marks should be awarded.
4	The Marking scheme carries only suggested value points for the answers. These are in the nature of Guidelines only and do not constitute the complete answer. The students can have their own expression and if the expression is correct, the due marks should be awarded accordingly.
5	The Head-Examiner must go through the first five answer books evaluated by each evaluator on the first day, to ensure that evaluation has been carried out as per the instructions given in the Marking Scheme. If there is any variation, the same should be zero after deliberation and discussion. The remaining answer books meant for evaluation shall be given only after ensuring that there is no significant variation in the marking of individual evaluators.
6	Evaluators will mark(✓) wherever answer is correct. For wrong answer CROSS ‘X’ be marked. Evaluators will not put right (✓) while evaluating which gives an impression that answer is correct and no marks are awarded. This is most common mistake which evaluators are committing.
7	If a question has parts, please award marks on the right-hand side for each part. Marks awarded for different parts of the question should then be totaled up and written in the left-hand margin and encircled. This may be followed strictly.

8	If a question does not have any parts, marks must be awarded in the left-hand margin and encircled. This may also be followed strictly.
9	If a student has attempted an extra question, answer of the question deserving more marks should be retained and the other answer scored out with a note “Extra Question” .
10	No marks to be deducted for the cumulative effect of an error. It should be penalized only once.
11	A full scale of marks 80 has to be used. Please do not hesitate to award full marks if the answer deserves it.
12	Every examiner has to necessarily do evaluation work for full working hours i.e., 8 hours every day and evaluate 20 answer books per day in main subjects and 25 answer books per day in other subjects (Details are given in Spot Guidelines).
13	<p>Ensure that you do not make the following common types of errors committed by the Examiner in the past:- Giving more marks for an answer than assigned to it.</p> <ul style="list-style-type: none"> • Wrong totaling of marks awarded on an answer. • Wrong transfer of marks from the inside pages of the answer book to the title page. • Wrong question wise totaling on the title page. • Leaving answer or part thereof unassessed in an answer book. • Wrong totaling of marks of the two columns on the title page. • Wrong grand total. • Marks in words and figures not tallying/not same. • Wrong transfer of marks from the answer book to online award list. • Answers marked as correct, but marks not awarded. (Ensure that the right tick mark is correctly and clearly indicated. It should merely be a line. Same is with the X for incorrect answer.) <p>Half or a part of answer marked correct and the rest as wrong, but no marks awarded.</p>
14	While evaluating the answer books if the answer is found to be totally incorrect, it should be marked as cross (X) and awarded zero (0) Marks.
15	Any un assessed portion, non-carrying over of marks to the title page, or totaling error detected by the candidate shall damage the prestige of all the personnel engaged in the evaluation work as also of the Board. Hence, in order to uphold the prestige of all concerned, it is again reiterated that the instructions be followed meticulously and judiciously.
16	The Examiners should acquaint themselves with the guidelines given in the “Guidelines for spot Evaluation” before starting the actual evaluation.
17	Every Examiner shall also ensure that all the answers are evaluated, marks carried over to the title page, correctly totaled and written in figures and words.
18	The candidates are entitled to obtain photocopy of the Answer Book on request on payment of the prescribed processing fee. All Examiners/Additional Head Examiners/Head Examiners are once again reminded that they must ensure that evaluation is carried out strictly as per value points for each answer as given in the Marking Scheme.

अंकन योजना

Senior School Certificate Examination (Supplementary), July 2024

अर्थशास्त्र (विषय कोड – 030)

[Paper Code: 58/S/3]

अधिकतम अंक : 80

प्र.सं.	अपेक्षित उत्तर/मूल्य बिंदु	अंक
खण्ड क समष्टि अर्थशास्त्र		
1.	<p>निम्नलिखित कथनों का ध्यानपूर्वक अध्ययन कीजिए:</p> <p>कथन 1: किसी द्वि-क्षेत्रक अर्थव्यवस्था में सकल राष्ट्रीय उत्पाद (GNP) सकल घरेलू उत्पाद (GDP) से अधिक हो सकता है।</p> <p>कथन 2: किसी द्वि-क्षेत्रक अर्थव्यवस्था में विदेशों से प्राप्त निवल कारक आय शून्य होती है।</p> <p>दिए गए कथनों के आलोक में, निम्नलिखित में से सही विकल्प का चयन कीजिए:</p> <p>(A) कथन 1 सत्य है और कथन 2 असत्य है।</p> <p>(B) कथन 1 असत्य है और कथन 2 सत्य है।</p> <p>(C) कथन 1 और 2 दोनों सत्य हैं।</p> <p>(D) कथन 1 और 2 दोनों असत्य हैं।</p> <p>उत्तर. (B) कथन 1 असत्य है और कथन 2 सत्य है।</p>	1
2.	<p>अन्य सभी कारक समान रहने पर, _____ के कारण किसी राष्ट्र के भुगतान संतुलन में व्यापार अधिशेष उत्पन्न हो सकता है।</p> <p>(रिक्त स्थान को भरने के लिए सही विकल्प का चयन कीजिए)</p> <p>(A) जापान को कॉफी के निर्यात में वृद्धि</p> <p>(B) बैंकिंग सेवाओं के आयात में कमी</p> <p>(C) अनाज के निर्यात में कमी</p> <p>(D) विदेशों को प्रेषित धन में वृद्धि</p> <p>उत्तर. (A) जापान को कॉफी के निर्यात में वृद्धि</p>	1
3.	<p>मान लीजिए कि, एक काल्पनिक अर्थव्यवस्था में, केन्द्रीय बैंक आरक्षित अनुपात को 10% से बढ़ाकर 25% कर देता है। प्रारंभिक जमा राशि को ₹ 1,000 करोड़ पर स्थिर रखते हुए, मुद्रा सृजन की कुल राशि ₹ _____ करोड़ हो जाएगी।</p> <p>(रिक्त स्थान को भरने के लिए सही विकल्प का चयन कीजिए)</p> <p>(A) 10,000 (B) 4,000</p> <p>(C) 6,000 (D) 5,000</p> <p>उत्तर. (B) 4,000</p>	1
4.	<p>किसी विशेष समय बिंदु पर भुगतान के उद्देश्य से जनता द्वारा रखी हुई मुद्रा की कुल मात्रा _____ होती है।</p> <p>(रिक्त स्थान को भरने के लिए सही विकल्प का चयन कीजिए)</p> <p>(A) सावधि जमा (B) मुद्रा की माँग</p> <p>(C) मुद्रा आपूर्ति (D) साख सृजन</p> <p>उत्तर. (C) मुद्रा आपूर्ति</p>	1
5.	<p>_____ विनिमय दर प्रणाली के अंतर्गत, किसी राष्ट्र के केन्द्रीय बैंक व सरकार को विदेशी मुद्रा दर के निर्धारण में हस्तक्षेप का कोई अधिकार नहीं होता है।</p> <p>(रिक्त स्थान को भरने के लिए सही विकल्प का चयन कीजिए)</p> <p>(A) स्थिर (fixed) (B) तिरती (floating)</p> <p>(C) प्रबंधित तिरती (D) स्वर्ण मान</p> <p>उत्तर. (B) तिरती (floating)</p>	1
6.	<p>निम्नलिखित कथनों का ध्यानपूर्वक अध्ययन कीजिए:</p> <p>कथन 1: औसत उपभोग प्रवृत्ति (APC) कुल उपभोग में दिए गए परिवर्तन के संबंध के कुल आय में परिवर्तन को दर्शाती है।</p> <p>कथन 2: जब आय में परिवर्तन होता है, तो उपभोग में परिवर्तन (ΔC) कभी भी आय में परिवर्तन (ΔY) से अधिक नहीं हो सकता है।</p> <p>दिए गए कथनों के आलोक में, निम्नलिखित में से सही विकल्प का चयन कीजिए:</p>	

	<p>(A) कथन 1 सत्य है और कथन 2 असत्य है। (B) कथन 1 असत्य है और कथन 2 सत्य है। (C) कथन 1 और 2 दोनों सत्य हैं। (D) कथन 1 और 2 दोनों असत्य हैं।</p> <p>उत्तर. (B) कथन 1 असत्य है और कथन 2 सत्य है।</p>	1
7.	<p>किसी अर्थव्यवस्था में, आय के लाभ-अलाभ (break-even) स्तर का निर्धारण _____ पर किया जा सकता है। (i) सीमांत उपभोग प्रवृत्ति (MPC) = सीमांत बचत प्रवृत्ति (MPS) (ii) आय (Y) = उपभोग (C) (iii) बचत (S) = 0 (iv) औसत उपभोग प्रवृत्ति (APC) = औसत बचत प्रवृत्ति (APS) (रिक्त स्थान को भरने के लिए सही विकल्प का चयन कीजिए)</p> <p>विकल्प: (A) केवल (i) (B) (i) और (ii) (C) (ii) और (iii) (D) (i) और (iv)</p> <p>उत्तर. (C) (ii) और (iii)</p>	1
8.	<p>एक काल्पनिक अर्थव्यवस्था के लिए यह ज्ञात है कि : औसत बचत प्रवृत्ति (APS) = 0.4 आय (Y) = ₹100 करोड़ स्वायत्त उपभोग (\bar{C}) = ₹10 करोड़ निवेश गुणक का मूल्य _____ होगा। (रिक्त स्थान को भरने के लिए सही विकल्प का चयन कीजिए)</p> <p>(A) 5 (B) 2 (C) 4 (D) 10</p> <p>उत्तर. (B) 2</p>	1
9.	<p>भुगतान संतुलन का _____ खाता शेष विश्व (ROW) पर वित्तीय दावों में निवल परिवर्तन को दर्शाता है। (रिक्त स्थान को भरने के लिए सही विकल्प का चयन कीजिए)</p> <p>(A) व्यापार (B) पूँजी (C) चालू (D) दृश्यमान</p> <p>उत्तर. (B) पूँजी</p>	1
10.	<p>पहचान कीजिए, निम्नलिखित में से कौन-सा विकल्प उपभोग और प्रयोज्य आप के बीच आनुपातिक संबंध को दर्शाता है। (A) सीमांत उपभोग प्रवृत्ति (MPC)/औसत उपभोग प्रवृत्ति (APC) (B) सीमांत उपभोग प्रवृत्ति (MPC) < औसत उपभोग प्रवृत्ति (APC) (C) सीमांत उपभोग प्रवृत्ति (MPC) = औसत उपभोग प्रवृत्ति (APC) (D) सीमांत उपभोग प्रवृत्ति (MPC) = 1</p> <p>उत्तर. (C) सीमांत उपभोग प्रवृत्ति (MPC) = औसत उपभोग प्रवृत्ति (APC)</p>	1
11. (क)	<p>"मुद्रा अवमूल्यन व मुद्रा मूल्यहास के निहितार्थ (आशय) समान हैं, परन्तु वे पृथक्-पृथक् स्रोतों से उत्पन्न होते हैं।" क्या आप दिए गए कथन से सहमत हैं? अपने उत्तर के समर्थन में वैध कारण दीजिए। उत्तर. हां, मुद्रा अवमूल्यन व मुद्रा मूल्यहास से विदेशी मुद्रा के सन्दर्भ में घरेलू मुद्रा के मूल्य में गिरावट आ सकती है। इसके परिणामस्वरूप निर्यात/आयात में वृद्धि/कमी हो सकती है, क्योंकि घरेलू/विदेशी वस्तुएँ अपेक्षाकृत सस्ती/महंगी हो जाती हैं। अतः, मुद्रा अवमूल्यन व मुद्रा मूल्यहास दोनों के निहितार्थ समान हैं। यद्यपि, मुद्रा अवमूल्यन सरकार द्वारा की गई कार्यवाही के कारण होता है, मुद्रा मूल्यहास मांग और पूर्ति की बाज़ार शक्तियों के कारण होता है। अथवा</p>	3
(ख)	<p>चालू खाते के घाटे का अर्थ तथा इसके कम होने के पीछे के कारणों को रेखांकित कीजिए।</p>	

	<p>उत्तर. चालू खाता घाटा (CAD) तब उत्पन्न होता है, जब वस्तुओं और सेवाओं के निर्यात तथा एकपक्षीय हस्तांतरण से प्राप्तियाँ वस्तुओं और सेवाओं के आयात और एकपक्षीय हस्तांतरण के भुगतान से कम होती हैं।</p> <p>चालू खाता घाटा तब कम हो सकता है, जब वस्तुओं और सेवाओं के निर्यात और एकपक्षीय हस्तांतरण से प्राप्तियों में वृद्धि हो अथवा वस्तुओं और सेवाओं के आयात और एकपक्षीय हस्तांतरण के लिए भुगतान में कमी हो।</p>	<p>1</p> <p>2</p> <p>3</p>																					
12.	<p>दिए गए आंकड़ों के आधार पर, साधन लागत पर शुद्ध मूल्य वृद्धि (NVA_{FC}) के मूल्य का अनुमान लगाइए:</p> <table border="1"> <thead> <tr> <th>क्रम सं.</th><th>मर्दे</th><th>राशि (₹ करोड़ में)</th></tr> </thead> <tbody> <tr> <td>(i)</td><td>बिक्री</td><td>2,000</td></tr> <tr> <td>(ii)</td><td>कच्चे माल का क्रय</td><td>500</td></tr> <tr> <td>(iii)</td><td>स्टॉक में परिवर्तन</td><td>300</td></tr> <tr> <td>(iv)</td><td>सकल निवेश</td><td>500</td></tr> <tr> <td>(v)</td><td>शुद्ध अप्रत्यक्ष कर</td><td>200</td></tr> <tr> <td>(vi)</td><td>शुद्ध निवेश</td><td>300</td></tr> </tbody> </table> <p>उत्तर.</p> <p>साधन लागत पर शुद्ध मूल्य वृद्धि (NVA_{FC}) = (i) + (iii) - (ii) - [(iv) - (vi)] - (v)</p> <p style="text-align: center;">= 2000 + 300 - 500 - [500 - 300] - 200</p> <p style="text-align: center;">= ₹ 1,400 करोड़</p>	क्रम सं.	मर्दे	राशि (₹ करोड़ में)	(i)	बिक्री	2,000	(ii)	कच्चे माल का क्रय	500	(iii)	स्टॉक में परिवर्तन	300	(iv)	सकल निवेश	500	(v)	शुद्ध अप्रत्यक्ष कर	200	(vi)	शुद्ध निवेश	300	<p>1 ½</p> <p>1</p> <p>½</p> <p>3</p>
क्रम सं.	मर्दे	राशि (₹ करोड़ में)																					
(i)	बिक्री	2,000																					
(ii)	कच्चे माल का क्रय	500																					
(iii)	स्टॉक में परिवर्तन	300																					
(iv)	सकल निवेश	500																					
(v)	शुद्ध अप्रत्यक्ष कर	200																					
(vi)	शुद्ध निवेश	300																					
13. (क)	<p>"जब प्रत्याशित समग्र माँग (AD) प्रत्याशित समग्र आपूर्ति (AS) से अधिक हो, तो परिणामस्वरूप अनपेक्षित मालसूची (Inventories) का संग्रह होता है।"</p> <p>अपने उत्तर की पुष्टि के लिए वैध कारण देते हुए, दिए गए कथन का समर्थन अथवा खंडन कीजिए।</p> <p>उत्तर. दिए गए कथन का खंडन किया जाता है।</p> <p>जब प्रत्याशित समग्र माँग, प्रत्याशित समग्र पूर्ति से अधिक होती है, तो इसका अर्थ है कि गृहस्थ और फर्मों द्वारा प्रत्याशित क्रय, फर्मों की अपेक्षा से अधिक होता है। परिणामस्वरूप, उत्पादकों के पास मालसूची घट जाती है, जिससे मालसूची में अनपेक्षित कमी हो जाएगी।</p> <p style="text-align: right;">(पूरे उत्तर को एक साथ अंकित किया जाए)</p>	4																					
(ख)	<p>अथवा</p> <p>किसी काल्पनिक अर्थव्यवस्था के लिए निम्नलिखित को मानिए :</p> <p>(i) स्वायत्त उपभोग व्यय (\bar{C}) = ₹25 करोड़</p> <p>(ii) सीमांत बचत प्रवृत्ति (MPS) = 0.1</p> <p>(iii) आय का स्तर (Y) = ₹ 2,000 करोड़</p> <p>(iv) स्वायत्त निवेश (I) = ₹25 करोड़</p> <p>क्या अर्थव्यवस्था संतुलित अवस्था में है? वैध गणनाओं द्वारा अपने उत्तर का औचित्य सिद्ध कीजिए।</p> <p>उत्तर. दिया गया है, स्वायत्त उपभोग व्यय (\bar{C}) = ₹ 25 करोड़</p> <p>सीमांत बचत प्रवृत्ति (MPS) = 0.1</p> <p>आय का स्तर (Y) = ₹ 2,000 करोड़</p> <p>स्वायत्त निवेश (I) = ₹ 25 करोड़</p> <p>सीमांत उपभोग प्रवृत्ति (MPC) = 1 - MPS</p> <p style="text-align: center;">$\Rightarrow 1 - 0.1 = 0.9$</p> <p>आय के संतुलन स्तर पर, $Y = C + I$</p> <p>(C+I) में Y का मान प्रतिस्थापित करने पर</p> <p style="text-align: center;">$C + I = \bar{C} + (MPC)Y + I$</p> <p style="text-align: center;">= 25 + 0.9 × 2,000 + 25</p> <p style="text-align: center;">= ₹1,850 करोड़</p> <p>₹ 2,000 करोड़ के आय स्तर पर $Y > C + I$ है।</p> <p>अतः, ₹2,000 करोड़ के आय स्तर पर अर्थव्यवस्था संतुलन में नहीं है।</p>	<p>1</p> <p>1</p> <p>½</p> <p>½</p> <p>½</p> <p>½</p>																					

	<p>वैकल्पिक उत्तर: आय के संतुलन स्तर पर, $S = I$ S में Y का मान प्रतिस्थापित करने पर $S = -\bar{C} + (MPS)Y$ $= -25 + 0.1 \times 2000$ $= 175$ करोड़ 2,000 करोड़ के आय स्तर पर $S > I$. अतः, 2,000 करोड़ के आय स्तर पर अर्थव्यवस्था संतुलन में नहीं है।</p>	<p>1</p> <p>1 1/2 1/2 1/2 1/2</p> <p>4</p>
14.	<p>निम्नलिखित चित्र का अध्ययन कीजिए:</p> <p>(i) संकेतित स्थिति की पहचान कीजिए। (ii) इस स्थिति को सही करने के लिए ऐसे किन्हीं दो कदमों की व्याख्या कीजिए जो कि RBI के द्वारा उठाए जा सकते हैं।</p> <p>उत्तर. (i) उपरोक्त चित्र मुद्रास्फीति की स्थिति को दर्शाता है। (ii) इस स्थिति को सही करने के लिए भारतीय रिजर्व बैंक (RBI) द्वारा उठाए गए दो कदम निम्नलिखित हो सकते हैं:</p> <ul style="list-style-type: none"> RBI द्वारा खुले बाजार में सरकारी प्रतिभूतियों की बिक्री से वाणिज्यिक बैंकों के पास धन की उपलब्धता में कमी आती है, जिससे उनकी ऋण देने की क्षमता कम हो जाती है। परिणामस्वरूप, अर्थव्यवस्था में मुद्रा आपूर्ति कम हो सकती है। इससे समग्र मांग कम होती है, फलस्वरूप मुद्रास्फीति नियंत्रित की जा सकती है। RBI द्वारा बैंक दर में वृद्धि से वाणिज्यिक बैंकों द्वारा ऋण दरों में वृद्धि हो सकती है। इससे आम जनता के लिए ऋण लेना महंगा हो सकता है। अतः वे अधिक ऋण लेने से हतोत्साहित हो सकते हैं। परिणामस्वरूप, अर्थव्यवस्था में समग्र मांग में गिरावट आ सकती है, जिसके फलस्वरूप अर्थव्यवस्था में मुद्रास्फीति नियंत्रित हो सकती है। <p>(कोई अन्य वैध बिंदु के लिए अंक दिए जाएँ)</p>	<p>1</p> <p>1 1/2</p> <p>1 1/2</p> <p>4</p>
15.	<p>"भारतीय रिजर्व बैंक (RBI) सरकार के लिए वही कार्य करता है, जो कि वाणिज्यिक बैंक आम जनता के लिए करते हैं।"</p> <p>भारत सरकार के लिए केन्द्रीय बैंक द्वारा किए गए ऐसे किन्हीं दो कार्यों की संक्षेप में चर्चा कीजिए।</p> <p>उत्तर. सरकार के बैंकर के रूप में, भारतीय रिजर्व बैंक (RBI) खाता रखता है, प्राप्तियाँ स्वीकार करता है, भुगतान करता है तथा विनिमय, धन प्रेषण और अन्य बैंकिंग परिचालन भी करता है।</p> <p>वित्तीय संकट की स्थिति में, सरकार की आवश्यकताओं को पूरा करने के लिए RBI सरकार को ऋण प्रेषित देता है। अतः, भारतीय रिजर्व बैंक सरकार के लिए बैंकिंग कार्यों को उसी प्रकार सुगम बनाता है, जिस प्रकार वाणिज्यिक बैंक आम जनता के लिए।</p> <p>(पूरे उत्तर को एक साथ अंकित किया जाए)</p>	<p>4</p>
16.	<p>करक आय व हस्तांतरण आय में अंतर स्पष्ट कीजिए।</p> <p>(क) उत्तर. करक आय, उत्पादन के कारकों द्वारा फर्मों को अपनी कारक सेवाएं प्रदान करने के लिए प्राप्त होने वाली आय है।</p> <p>जबकि; हस्तांतरण आय किसी भी वस्तु या सेवा को प्रदान किए बिना प्राप्त होने वाली एकपक्षीय आय है।</p>	<p>1 + 1/2</p> <p>1 + 1/2</p>

(ख)	<p>बाह्यताओं को नकारात्मक अथवा सकारात्मक रूप में वर्गीकृत किया जा सकता है, परन्तु यह आवश्यक नहीं है कि सकल घरेलू उत्पाद से इनका सीधा संबंध हो।"</p> <p>क्या आप दिए गए कथन से सहमत हैं? अपने उत्तर के समर्थन में वैध कारण दीजिए।</p> <p>उत्तर. हाँ, बाह्यताओं का सकल घरेलू उत्पाद (GDP) से प्रत्यक्ष संबंध आवश्यक नहीं है, क्योंकि बाह्य कारकों का कोई बाजार नहीं होता है जहाँ उन्हें खरीदा / बेचा जा सके। GDP, तृतीय पक्ष पर होने वाले ऐसे किसी भी नकारात्मक / सकारात्मक प्रभाव को ध्यान में नहीं रखता है क्योंकि उन्हें इनसे होने वाली हानि / लाभ के लिए दंडित / भुगतान नहीं किया जाता। अतः, यह अर्थव्यवस्था के वास्तविक कल्याण का अधिक / कम आकलन कर सकता है।</p> <p style="text-align: right;">(पूरे उत्तर को एक साथ अंकित किया जाए)</p>	<p>3</p> <p>6</p>
<p>17.</p> <p>(क)</p> <p>(i)</p> <p>(ii)</p> <p>(ख)</p> <p>(i)</p> <p>(ii)</p>	<p>केन्द्रीय बजट 2023-24 में सूक्ष्म, लघु व मध्यम उद्यम (MSME) मंत्रालय को ₹22,138 करोड़ के आवंटन का प्रस्ताव किया गया था।"</p> <p>उस उद्देश्य की पहचान व व्याख्या कीजिए, जिसे सरकार प्रस्तावित व्यय के साथ प्राप्त करने का प्रयास कर रही है।</p> <p>उत्तर. उपरोक्त कथन में सरकारी बजट के 'आबंटन कार्य' उद्देश को इंगित किया गया है।</p> <p>सूक्ष्म, लघु एवं मध्यम उद्यम (MSME) मंत्रालय को 22,138 करोड़ रुपये के प्रस्तावित आवंटन से सरकार राष्ट्रीय उत्पादन और रोजगार के अवसरों में वृद्धि करना तथा सामाजिक-आर्थिक लक्ष्यों को प्राप्त करने का प्रयास कर सकती है। भारत जैसे देश में, राष्ट्र के समग्र विकास के लिए ऐसे कदम फलदायी हैं।</p> <p>राजकोषीय घाटे व राजस्व घाटे की गणना करने के लिए प्रयुक्त सूत्रों का उल्लेख कीजिए।</p> <p>उत्तर. राजकोषीय घाटा = कुल व्यय – ऋण ग्रहण को छोड़कर कुल प्राप्तियाँ</p> <p>राजस्व घाटा = राजस्व व्यय – राजस्व प्राप्तियाँ</p> <p style="text-align: center;">अथवा</p> <p>"कर राजस्व, राजस्व प्राप्तियों का एक महत्वपूर्ण घटक है तथा इसे दो श्रेणियों में वर्गीकृत किया जा सकता है।"</p> <p>मान लीजिए कि आप भारत सरकार के राजस्व विभाग के सदस्य हैं। करों की दो श्रेणियों को पहचानने एवं उनके बीच अंतर करने में अपने मित्र की सहायता कीजिए।</p> <p>उत्तर. करों की दो श्रेणियाँ हैं: प्रत्यक्ष कर व अप्रत्यक्ष कर।</p> <p>प्रत्यक्ष कर वे कर हैं, जिनका प्रभाव और भार एक ही इकाई पर पड़ता है।</p> <p style="text-align: center;">जबकि;</p> <p>अप्रत्यक्ष कर वे कर हैं, जिनका प्रभाव और भार पृथक इकाइयों पर पड़ सकता है।</p> <p>बजट के तीन प्रकार – घाटे का बजट, अधिशेष बजट व संतुलित बजट, हो सकते हैं।</p> <p>क्या आप दिए गए कथन से सहमत हैं? अपने उत्तर के समर्थन में वैध कारण दीजिए।</p> <p>उत्तर. हाँ, बजट तीन प्रकार का हो सकता है: घाटे का बजट, अधिशेष बजट अथवा संतुलित बजट क्योंकि यह कुल बजट व्यय और प्राप्तियों पर निर्भर करता है।</p> <p>संतुलन बजट: जब सरकार की कुल प्राप्तियाँ उसके कुल व्यय के बराबर होती हैं।</p> <p>अधिशेष बजट: जब सरकार की कुल प्राप्तियाँ उसके कुल व्यय से अधिक होती हैं।</p> <p>घाटे का बजट: जब सरकार की कुल प्राप्तियाँ उसके कुल व्यय से कम होती हैं।</p> <p style="text-align: right;">(पूरे उत्तर को एक साथ अंकित किया जाए)</p>	<p>1</p> <p>3</p> <p>1</p> <p>1</p> <p>6</p> <p>1</p> <p>1</p> <p>1</p> <p>3</p> <p>6</p>
<p>खण्ड ख</p> <p>(भारतीय आर्थिक विकास)</p>		
18.	<p>_____ को कृषि उत्पादन से विविधीकरण के वैकल्पिक स्रोत के रूप में वर्गीकृत किया जा सकता है।</p> <p style="text-align: center;">(रिक्त स्थान को भरने के लिए सही विकल्प का चयन कीजिए।)</p> <p>(A) हरित क्रांति (B) बागवानी</p> <p>(C) जैविक कृषि (D) परंपरागत कृषि</p> <p>उत्तर. (B) बागवानी</p>	1
19.	<p>निम्नलिखित कथनों को पढ़िए - अभिकथन (A) और कारण (R)। नीचे दिए गए विकल्पों में से सही विकल्प चुनिए:</p> <p>अभिकथन (A) : मानव पूँजी का बाजार में व्यापार नहीं किया जा सकता, जबकि इसकी सेवाओं का व्यापार किया जा सकता है।</p> <p>कारण (R) : मानव पूँजी अमूर्त प्रकृति की होती है।</p>	

	<p>विकल्प:</p> <p>(A) अभिकथन (A) और कारण (R) दोनों सत्य हैं, और कारण (R), अभिकथन (A) की सही व्याख्या करता है।</p> <p>(B) अभिकथन (A) और कारण (R) दोनों सत्य हैं, लेकिन कारण (R), अभिकथन (A) की सही व्याख्या नहीं करता है।</p> <p>(C) अभिकथन (A) सत्य है, लेकिन कारण (R) असत्य है।</p> <p>(D) अभिकथन (A) असत्य है, लेकिन कारण (R) सत्य है।</p> <p>उत्तर. (A) अभिकथन (A) और कारण (R) दोनों सत्य हैं, और कारण (R), अभिकथन (A) की सही व्याख्या करता है।</p>	1
20.	<p>चीन में लागू किए गए _____ उपाय से जनसंख्या के साथ-साथ लिंगानुपात में भी गिरावट आई थी। (रिक्त स्थान को भरने के लिए सही विकल्प का चयन कीजिए)</p> <p>(A) पूँजीगत वस्तुओं के राष्ट्रीयकरण (Nationalisation)</p> <p>(B) पूँजीगत वस्तुओं के विराष्ट्रीयकरण (Denationalisation)</p> <p>(C) एकल-संतान नीति</p> <p>(D) द्वि-संतान नीति</p> <p>उत्तर. (C) एकल-संतान नीति</p>	1
21.	<p>भारत, चीन व पाकिस्तान में से _____ भौगोलिक दृष्टि से सबसे बड़ा राष्ट्र है, तथा इन तीन राष्ट्रों में इसका घनत्व सबसे _____ है। (रिक्त स्थान को भरने के लिए सही विकल्प का चयन कीजिए)</p> <p>(A) चीन, अधिक</p> <p>(B) पाकिस्तान, कम</p> <p>(C) भारत, कम</p> <p>(D) चीन, कम</p> <p>उत्तर. (D) चीन, कम</p>	1
22.	<p>निम्नलिखित कथनों का ध्यानपूर्वक अध्ययन कीजिए :</p> <p>कथन 1 : औपनिवेशिक सरकार द्वारा भारतीय कृषि का व्यवसायीकरण बलपूर्वक दमनकारी रूप में प्रारंभ किया गया था।</p> <p>कथन 2 : खाद्य फसलों के उत्पादन को लागू करने के पीछे अंग्रेजों के दोहरे उद्देश्य थे।</p> <p>दिए गए कथनों के आलोक में, निम्नलिखित में से सही विकल्प का चयन कीजिए:</p> <p>(A) कथन 1 सत्य है और कथन 2 असत्य है।</p> <p>(B) कथन 1 असत्य है और कथन 2 सत्य है।</p> <p>(C) कथन 1 और 2 दोनों सत्य हैं।</p> <p>(D) कथन 1 और 2 दोनों असत्य हैं।</p> <p>उत्तर. (A) कथन 1 सत्य है और कथन 2 असत्य है।</p>	1
23.	<p>1965 में, माओ ने _____ का प्रारंभ किया, जिसके अंतर्गत छात्रों व पेशेवरों को ग्रामीण क्षेत्रों में काम करने तथा सीखने के लिए भेजा गया था। (रिक्त स्थान को भरने के लिए सही विकल्प का चयन कीजिए)</p> <p>(A) ग्रेट लीप फॉरवर्ड अभियान</p> <p>(B) कम्यून प्रणाली</p> <p>(C) महान सर्वहारा सांस्कृतिक क्रांति</p> <p>(D) मध्यकालिक विकास योजना</p> <p>उत्तर. (C) महान सर्वहारा सांस्कृतिक क्रांति</p>	1
24.	<p>अंग्रेजों ने भारत के आयात-निर्यात पर एकाधिकारी नियंत्रण बनाए रखा था, जबकि कुछ अन्य देशों जैसे कि _____ के साथ शेष की अनुमति थी। (रिक्त स्थान को भरने के लिए सही विकल्प का चयन कीजिए)</p> <p>(i) चीन</p> <p>(ii) सिलोन (श्री लंका)</p> <p>(iii) पर्शिया (ईरान)</p> <p>विकल्प:</p> <p>(A) केवल (i)</p> <p>(B) (i) और (ii)</p> <p>(C) (ii) और (iii)</p> <p>(D) (i), (ii) और (iii)</p> <p>उत्तर. (D) (i), (ii) और (iii)</p>	1
25.	<p>उस वैकल्पिक विपणन चैनल की पहचान कीजिए जो मुख्यतः पंजाब, हरियाणा व राजस्थान में संचालित होते हैं। (सही विकल्प का चयन कीजिए)</p> <p>(A) अपनी मंडी</p> <p>(B) हड़पसार मंडी</p>	

	(C) रायथू बाजार (D) उझावर संधाई उत्तर. (A) अपनी मंडी	1
26.	निम्नलिखित में से सही कथन की पहचान कीजिए: (A) स्वतंत्रता उपरांत, भारत ने समाजवादी अर्थव्यवस्था अपनाई थी। (B) भारतीय आर्थिक नियोजन को पंचवर्षीय योजनाओं के माध्यम से लागू किया गया था। (C) भारत सरकार द्वारा औद्योगिक क्षेत्र के अंतर्गत भूमि सुधारों को लागू किया गया था। (D) भारत में सकल घरेलू उत्पाद (GDP) में गिरावट के लिए औद्योगिक क्षेत्र में नीतिगत पहल जिम्मेदार थे। उत्तर. (B) भारतीय आर्थिक नियोजन को पंचवर्षीय योजनाओं के माध्यम से लागू किया गया था।	1
27.	1978 में चीन में प्रारंभ किए गए आर्थिक सुधारों के अंतर्गत, विदेशी निवेशकों को आकर्षित करने के लिए _____ की स्थापना की गई थी। (रिक्त स्थान को भरने के लिए सही विकल्प का चयन कीजिए) (A) प्रेषण क्षेत्रों (B) भूमि क्षेत्रों (C) विशेष कम्यून क्षेत्रों (D) विशेष आर्थिक क्षेत्रों उत्तर. (D) विशेष आर्थिक क्षेत्रों	1
28.	(क) "हरित क्रांति ने भारत को खाद्यान्न में आत्मनिर्भर बना दिया है, परन्तु पारिस्थितिक (ecological) आधार पर इसकी आलोचना की गई है।" क्या आप दिए गए कथन से सहमत हैं? अपने उत्तर के समर्थन में वैध कारण प्रस्तुत कीजिए। उत्तर. हाँ, भारत में हरित क्रांति ने कृषि उत्पादन और उत्पादकता में वृद्धि की थी। उच्च पैदावार वाले (HYV) बीजों, रासायनिक उर्वरकों, कीटनाशकों आदि के उपयोग से खाद्यान्नों में आत्मनिर्भरता आई। इन रासायनिक उर्वरकों और कीटनाशकों के कारण मृदा क्षरण/ खाद्य उत्पादों और विभिन्न जल निकायों का संदूषण हुआ। इस प्रकार, यद्यपि हरित क्रांति ने भारत को खाद्यान्न उत्पादन में आत्मनिर्भर बना दिया, किन्तु पारिस्थितिक आधार पर इसकी आलोचना की गई। (पूरे उत्तर को एक साथ अंकित किया जाए) अथवा (ख) भारत में औपनिवेशिक सरकार द्वारा विकसित की गई आधारभूत संरचना की किन्हीं तीन गतिविधियों का उल्लेख कीजिए। उत्तर. भारत में औपनिवेशिक सरकार द्वारा की गई तीन अवसंरचनात्मक विकास गतिविधियाँ इस प्रकार थीं: • रेलवे की स्थापना • अंतर्देशीय व्यापार और समुद्री मार्गों का विकास • तार व्यवस्था की स्थापना (कोई अन्य वैध बिंदु के लिए अंक दिए जाएँ)	3 1 1 1 3
29.	दिए गए चित्र में दर्शाई गई परिस्थिति की पहचान कीजिए तथा इस समस्या पर नियंत्रण पाने के लिए किसी एक प्रभावी रणनीति की व्याख्या कीजिए। 	1 2
	उत्तर. दिए गए चित्र में दर्शाई गई स्थिति 'वैश्विक उष्णता' है। वैश्विक उष्णता की समस्या को प्रभावी ढंग से दूर करने की रणनीतियों में से एक पवन ऊर्जा का उपयोग है। पवन ऊर्जा धारणीय नवीकरण ऊर्जा का एक लोकप्रिय स्रोत है। जिन क्षेत्रों में हवा की गति आमतौर पर अधिक होती है, वहां पवन चक्कियाँ पर्यावरण पर किसी भी प्रतिकूल प्रभाव के बिना बिजली प्रदान कर सकती हैं। (कोई अन्य वैध रणनीति के लिए अंक दिए जाएँ)	

	<p>नोट : निम्नलिखित प्रश्न केवल दृष्टिबाधित परीक्षार्थियों के लिए प्रश्न संख्या 29 के स्थान पर है। वैश्विक उष्णता की समस्या पर प्रभावी ढंग से नियंत्रण पाने के लिए किसी एक रणनीति की व्याख्या कीजिए। उत्तर. वैश्विक उष्णता की समस्या को प्रभावी ढंग से दूर करने की रणनीतियों में से एक पवन ऊर्जा शक्ति का उपयोग है। पवन ऊर्जा धारणीय नवीकरण ऊर्जा का एक लोकप्रिय स्रोत है। जिन क्षेत्रों में हवा की गति आमतौर पर अधिक होती है, वहां पवन चक्कियाँ पर्यावरण पर किसी भी प्रतिकूल प्रभाव के बिना बिजली प्रदान कर सकती हैं। (कोई अन्य वैध रणनीति के लिए अंक दिए जाएँ)</p>	3																																										
		3																																										
30.	<p>(क) "एक सुदृढ़ कृषि विपणन प्रणाली किसी भी राष्ट्र की कृषि प्रणाली के लिए रीढ़ की हड्डी का काम करती है।" इस दिशा में भारत सरकार द्वारा उठाए गए किन्हीं दो कदमों को सूचीबद्ध कर उपर्युक्त कथन का औचित्य सिद्ध कीजिए। उत्तर. कृषि विपणन में सुधार के लिए भारत सरकार द्वारा उठाए गए दो कदम हैं: • व्यवस्थित और पारदर्शी विपणन स्थितियों को बनाने के लिए सरकार द्वारा बाजारों का विनियमन। • सड़क, रेलवे, गोदाम आदि जैसी भौतिक आधारभूत संरचना सुविधाओं का प्रावधान। (कोई अन्य वैध कदम के लिए अंक दिए जाएँ)</p>	2 2																																										
	अथवा	4																																										
(ख)	<p>विगत कुछ वर्षों में, भारत में परंपरागत कृषि से प्राकृतिक/जैविक कृषि की ओर स्थानांतरण देखा गया है।" जैविक उत्पादों की ओर इस स्थानांतरण के पीछे के किन्हीं दो कारणों की संक्षिप्त चर्चा कीजिए। उत्तर. पारंपरिक खेती से जैविक खेती की ओर बदलाव के पीछे दो कारण हैं: • जैविक रूप से उगाए गए भोजन में पारंपरिक खेती के माध्यम से उत्पादित भोजन की तुलना में अधिक पोषण मूल्य होता है। • पारंपरिक खेती की तुलना में जैविक खेती कीटनाशक मुक्त और पर्यावरण की दृष्टि से टिकाऊ है। (कोई अन्य वैध कारण के लिए अंक दिए जाएँ)</p>	2 2																																										
		4																																										
31.	<p>"भारत में शिक्षा के विभिन्न स्तरों पर व्यय समान अनुपात में होता है।" वैध कारण बताते हुए दिए गए कथन का समर्थन अथवा खंडन कीजिए। उत्तर. दिए गए कथन का खंडन किया जाता है। भारत में, कुल शिक्षा व्यय का एक बड़ा भाग प्रारंभिक शिक्षा पर होता है और उच्चतर/तृतीयक शिक्षा का भाग सबसे कम है। यद्यपि, सरकार तृतीयक शिक्षा पर कम खर्च करती है, परन्तु तृतीयक शिक्षा में 'प्रति छात्र व्यय' प्राथमिक शिक्षा की तुलना में अधिक है। इसके अतिरिक्त, शिक्षा उपकरण से प्राप्त राजस्व को प्रारंभिक शिक्षा पर खर्च करने के लिए निर्धारित किया गया है। साथ ही सरकार ने उच्च शिक्षा संवर्धन तथा उच्च शिक्षार्थियों के लिए नई ऋण योजनाओं हेतु एक विशाल धन राशि की घोषणा भी की है। (पूरे उत्तर को एक साथ अंकित किया जाए)</p>	4																																										
32.	<p>निम्नलिखित आंकड़ों के आधार पर, चीन व पाकिस्तान के लिए रोजगार व उत्पादन में परिवर्तन की रूपरेखा प्रस्तुत कर चर्चा कीजिए।</p> <p style="text-align: center;">रोजगार और GVA का क्षेत्रीय हिस्सा 2018-2019 में (%)</p> <table><tr><th>विभाग</th><th colspan="3">GVA को योगदान</th><th colspan="3">कार्यबल का वितरण</th></tr><tr><th></th><th>भारत</th><th>चीन</th><th>पाकिस्तान</th><th>भारत</th><th>चीन</th><th>पाकिस्तान</th></tr><tr><td>कृषि</td><td>16</td><td>7</td><td>24</td><td>43</td><td>26</td><td>41</td></tr><tr><td>उद्योग</td><td>30</td><td>41</td><td>19</td><td>25</td><td>28</td><td>24</td></tr><tr><td>सेवाएँ</td><td>54</td><td>52</td><td>57</td><td>32</td><td>46</td><td>35</td></tr><tr><td>कुल</td><td>100</td><td>100</td><td>100</td><td>100</td><td>100</td><td>100</td></tr></table> <p>स्रोत: मानव विकास रिपोर्ट 2019 : एशिया और प्रशांत 2019 के प्रमुख संकेतक। उत्तर. दिए गये आंकड़े रोजगार और GVA की क्षेत्रीय हिस्सेदारी से संबंधित हैं। स्थलाकृतिक और जलवायु परिस्थितियों के कारण, चीन में कृषि योग्य क्षेत्र, पाकिस्तान की तुलना में अपेक्षाकृत कम है। इसलिए, चीन के GVA में कृषि क्षेत्र का योगदान 7% है, जो 26% कार्यबल को रोजगार देता है, जबकि पाकिस्तान में यह 24% है, जो 41% कार्यबल को रोजगार देता है। चीन में तेजी से औद्योगिकीकरण के कारण, GVA में औद्योगिक क्षेत्र का योगदान 41% है जिसमें 28% कार्यबल सम्मिलित है, जबकि पाकिस्तान में ये आँकड़े क्रमशः 19% और 24% हैं।</p>	विभाग	GVA को योगदान			कार्यबल का वितरण				भारत	चीन	पाकिस्तान	भारत	चीन	पाकिस्तान	कृषि	16	7	24	43	26	41	उद्योग	30	41	19	25	28	24	सेवाएँ	54	52	57	32	46	35	कुल	100	100	100	100	100	100	4
विभाग	GVA को योगदान			कार्यबल का वितरण																																								
	भारत	चीन	पाकिस्तान	भारत	चीन	पाकिस्तान																																						
कृषि	16	7	24	43	26	41																																						
उद्योग	30	41	19	25	28	24																																						
सेवाएँ	54	52	57	32	46	35																																						
कुल	100	100	100	100	100	100																																						

	<p>दोनों देशों के GVA में सेवा क्षेत्र का योगदान 57% और 52% है। पाकिस्तान और चीन में इस क्षेत्र में कार्यबल में भागीदारी क्रमशः 35% और 46% है।</p> <p>(पूरे उत्तर को एक साथ अंकित किया जाए)</p>	
33.	<p>निम्नलिखित गद्य का ध्यानपूर्वक अध्ययन कीजिए:</p> <p>जुलाई 1991 के बजट के साथ राष्ट्र को एक बाह्य-उन्मुख बाजार-आधारित अर्थव्यवस्था की ओर अग्रसर करने के पक्ष में एक स्पष्ट परिवर्तन आया था। बजट में प्रारंभ किए गए व्यापारिक उदारीकरण के कदम बहुत व्यापक थे, हालाँकि इनकी गति धीमी रही तथा उनमें कभी-कभी रुकावटें भी आती रहीं थी।</p> <p>1991 के सुधारों ने कुछ मध्यवर्ती आयातों व पूँजीगत वस्तुओं को छोड़कर सभी वस्तुओं पर आयात लाइसेंस को समाप्त कर दिया था।</p> <p>उपभोक्ता वस्तुएँ, जो कि आयात शुल्क संग्रह का 30% हैं, लाइसेंस के अंतर्गत रहती हैं। मात्र एक दशक उपरांत, विश्व व्यापार संगठन (WTO) में भारत के व्यापारिक साझेदारों द्वारा एक सफल चुनौती के पश्चात् इन वस्तुओं को भी लाइसेंस से मुक्त कर दिया गया था।</p> <p>वर्तमान में, पर्यावरण/स्वास्थ्य/सुरक्षा के आधार पर अस्वीकृत कुछ वस्तुओं को छोड़कर, सभी वस्तुओं को बिना लाइसेंस या अन्य प्रतिबंधों के आयात किया जा सकता है।</p> <p>लाइसेंस हटाने के साथ, ये आयात शुल्क दरें आयात पर प्रभावी प्रतिबंध बन गई थीं। इसलिए, आर्थिक सुधारों का एक प्रमुख कार्य आयात शुल्क दरों को कम करना रहा है। आयात शुल्क में कटौती मुख्य रूप से गैर-कृषि, औद्योगिक वस्तुओं तक ही सीमित है।</p> <p>इसलिए, उदारीकरण इन वस्तुओं पर कठोरता से लागू होता है। आयात शुल्क में कमी शुल्क दरों में क्रमिक गिरावट के माध्यम से प्राप्त की गई है। आयात शुल्क बैंड की संख्या में कमी के माध्यम से आयात शुल्क संरचना के एक साथ युक्तिकरण ने इस दिशा में सहायता की थी।</p> <p>दिए गए गद्य व सामान्य ज्ञान के आधार पर निम्नलिखित प्रश्नों के उत्तर दीजिए:</p> <p>(i) "1991 के बजट में प्रारंभ किए गए उदारीकरण सुधार अत्यंत व्यापक थे।" 1991 के व्यापारिक सुधारों में से किन्हीं दो व्यापार सुधारों की व्याख्या करते हुए दिए गए कथन का औचित्य सिद्ध कीजिए।</p> <p>उत्तर. स्थानीय उद्योगों की दक्षता को प्रोत्साहित करने तथा आधुनिक तकनीकों को अपनाने के लिए 1991 के बजट में व्यापक व्यापार उदारीकरण सुधारों की शुरुआत की गई थी। 1991 में आरंभ किए गए दो व्यापार सुधार थे:</p> <ul style="list-style-type: none"> • परिमाणात्मक प्रतिबंधों की समाप्ति • आयात के लिए लाइसेंस प्रक्रिया की समाप्ति । <p>(पूरे उत्तर को एक साथ अंकित किया जाए) (कोई अन्य वैध बिंदु को अंक दिए जाएँ)</p> <p>(ii) ऐसे किन्हीं दो क्षेत्रों का उल्लेख कीजिए जिनमें आयात शुल्क में कटौती की गई थी।</p> <p>उत्तर. दो क्षेत्र जिनमें आयात शुल्क में कटौती की गई:</p> <ul style="list-style-type: none"> • गैर-कृषि वस्तुएँ • औद्योगिक वस्तुएँ <p>(कोई अन्य वैध बिंदु को अंक दिए जाएँ)</p>	<p>4</p> <p>1</p> <p>1</p> <p>6</p>
34.	<p>"जैसे-जैसे कोई अर्थव्यवस्था विकसित होती है, वैसे-वैसे अर्थव्यवस्था में नियोजित व्यक्तियों की संख्या में भी वृद्धि होती है; फिर भी 1991 के बाद से भारत इसके अपवाद के रूप में उभर कर सामने आया है।"</p> <p>(क) क्या आप दिए गए कथन से सहमत हैं? अपने उत्तर के पक्ष में वैध तर्क प्रस्तुत कीजिए।</p> <p>(i) उत्तर. हाँ, 1990 के दशक के अंत में आर्थिक सुधारों के उपरांत, भारतीय अर्थव्यवस्था ने सकल घरेलू उत्पाद (GDP) की संवृद्धि दर में तेज़ी से वृद्धि का अनुभव किया। किन्तु, GDP में वृद्धि के बाद भी</p>	4

	रोजगार वृद्धि में गिरावट दर्ज की गई, अर्थात् भारत ने 'रोजगारहीन संवृद्धि' की समस्या का अनुभव किया। भारतीय अर्थव्यवस्था रोजगार सृजन के बिना ही अधिक वस्तुओं और सेवाओं का उत्पादन करने में सक्षम थी।	
(ii)	उपयुक्त उदाहरण द्वारा प्रच्छन्न बेरोजगारी की परिभाषा दीजिए। उत्तर. प्रच्छन्न बेरोजगारी से तात्पर्य ऐसी स्थिति से है, जब व्यक्ति रोजगार में कार्यरत है किन्तु उत्पादन में योगदान नहीं दे रहा है, अर्थात् उसकी सीमांत उत्पादकता शून्य है। उदाहरण के लिए, मान लीजिए कि चार एकड़ जमीन और दो श्रमिकों के साथ एक किसान 100 क्विंटल गेहूं उत्पादित कर सकता है। तदोपरांत, यदि वह एक और श्रमिक को रोजगार देता है, तब भी कुल उत्पादन अपरिवर्तित रहता है। इसलिए, कुल उत्पादन में अतिरिक्त श्रमिक द्वारा किया गया योगदान शून्य है और उसे प्रच्छन्न रूप से बेरोजगार माना जा सकता है।	1 1
	अथवा	6
(ख)	"नेहा एक बहुराष्ट्रीय कम्पनी में पिछले पाँच वर्षों से नियमित रूप से कार्यरत है।"	
(i)	उपर्युक्त कथन में दर्शाए गए रोजगार के प्रकार की पहचान कर संक्षेप में व्याख्या कीजिए। उत्तर. नेहा एक नियमित वेतनभोगी कर्मचारी है। जब कोई कर्मचारी किसी व्यक्ति या उद्यम द्वारा नियोजित होता है और उसे नियमित आधार पर उसका वेतन दिया जाता है, तो उसे नियमित वेतनभोगी कर्मचारी के रूप में वर्गीकृत किया जा सकता है। इन कर्मचारियों को अपने नियोक्ता से नियमित पारिश्रमिक पाने के साथ-साथ अन्य सामाजिक सुरक्षा लाभ पाने के का भी अधिकार होता है।	1 2
(ii)	उस संकेतक का नाम बताइए, जिसका किसी राष्ट्र में रोजगार की स्थिति का विश्लेषण करने में सामान्यतः उपयोग किया जाता है। इसके महत्त्व की भी चर्चा कीजिए। उत्तर. श्रमिक-जनसंख्या अनुपात एक ऐसा संकेतक है जिसका उपयोग देश में रोजगार की स्थिति का विश्लेषण करने के लिए किया जाता है। इस अनुपात का उपयोग किसी देश की वस्तुओं और सेवाओं के उत्पादन में सक्रिय रूप से योगदान देने वाली जनसंख्या की भागीदारी को जानने में किया जाता है। श्रमिक जनसंख्या अनुपात जितना अधिक होगा, आर्थिक गतिविधियों में लोगों की भागीदारी उतनी ही अधिक होगी तथा विलोम सत्य।	1 2
		6

Marking Scheme
Strictly Confidential
(For Internal and Restricted use only)
Senior School Certificate Examination(Supplementary), July 2024
ECONOMICS (SUBJECT CODE – 030)
(PAPER CODE – 58/S/3)

General Instructions: -

1	You are aware that evaluation is the most important process in the actual and correct assessment of the candidates. A small mistake in evaluation may lead to serious problems which may affect the future of the candidates, education system and teaching profession. To avoid mistakes, it is requested that before starting evaluation, you must read and understand the spot evaluation guidelines carefully.
2	“Evaluation policy is a confidential policy as it is related to the confidentiality of the examinations conducted, Evaluation done and several other aspects. Its’ leakage to public in any manner could lead to derailment of the examination system and affect the life and future of millions of candidates. Sharing this policy/document to anyone, publishing in any magazine and printing in News Paper/Website etc may invite action under various rules of the Board and IPC.”
3	Evaluation is to be done as per instructions provided in the Marking Scheme. It should not be done according to one’s own interpretation or any other consideration. Marking Scheme should be strictly adhered to and religiously followed. However, while evaluating, answers which are based on latest information or knowledge and/or are innovative, they may be assessed for their correctness otherwise and due marks be awarded to them. In Class XII, while evaluating competency-based questions, please try to understand given answer and even if reply is not from marking scheme but correct competency is enumerated by the candidate, due marks should be awarded.
4	The Marking scheme carries only suggested value points for the answers. These are in the nature of Guidelines only and do not constitute the complete answer. The students can have their own expression and if the expression is correct, the due marks should be awarded accordingly.
5	The Head-Examiner must go through the first five answer books evaluated by each evaluator on the first day, to ensure that evaluation has been carried out as per the instructions given in the Marking Scheme. If there is any variation, the same should be zero after deliberation and discussion. The remaining answer books meant for evaluation shall be given only after ensuring that there is no significant variation in the marking of individual evaluators.
6	Evaluators will mark(✓) wherever answer is correct. For wrong answer CROSS ‘X’ be marked. Evaluators will not put right (✓) while evaluating which gives an impression that answer is correct and no marks are awarded. This is most common mistake which evaluators are committing.
7	If a question has parts, please award marks on the right-hand side for each part. Marks awarded for different parts of the question should then be totaled up and written in the left-hand margin and encircled. This may be followed strictly.

8	If a question does not have any parts, marks must be awarded in the left-hand margin and encircled. This may also be followed strictly.
9	If a student has attempted an extra question, answer of the question deserving more marks should be retained and the other answer scored out with a note “Extra Question” .
10	No marks to be deducted for the cumulative effect of an error. It should be penalized only once.
11	A full scale of marks 80 has to be used. Please do not hesitate to award full marks if the answer deserves it.
12	Every examiner has to necessarily do evaluation work for full working hours i.e., 8 hours every day and evaluate 20 answer books per day in main subjects and 25 answer books per day in other subjects (Details are given in Spot Guidelines).
13	<p>Ensure that you do not make the following common types of errors committed by the Examiner in the past:- Giving more marks for an answer than assigned to it.</p> <ul style="list-style-type: none"> • Wrong totaling of marks awarded on an answer. • Wrong transfer of marks from the inside pages of the answer book to the title page. • Wrong question wise totaling on the title page. • Leaving answer or part thereof unassessed in an answer book. • Wrong totaling of marks of the two columns on the title page. • Wrong grand total. • Marks in words and figures not tallying/not same. • Wrong transfer of marks from the answer book to online award list. • Answers marked as correct, but marks not awarded. (Ensure that the right tick mark is correctly and clearly indicated. It should merely be a line. Same is with the X for incorrect answer.) <p>Half or a part of answer marked correct and the rest as wrong, but no marks awarded.</p>
14	While evaluating the answer books if the answer is found to be totally incorrect, it should be marked as cross (X) and awarded zero (0) Marks.
15	Any un assessed portion, non-carrying over of marks to the title page, or totaling error detected by the candidate shall damage the prestige of all the personnel engaged in the evaluation work as also of the Board. Hence, in order to uphold the prestige of all concerned, it is again reiterated that the instructions be followed meticulously and judiciously.
16	The Examiners should acquaint themselves with the guidelines given in the “Guidelines for spot Evaluation” before starting the actual evaluation.
17	Every Examiner shall also ensure that all the answers are evaluated, marks carried over to the title page, correctly totaled and written in figures and words.
18	The candidates are entitled to obtain photocopy of the Answer Book on request on payment of the prescribed processing fee. All Examiners/Additional Head Examiners/Head Examiners are once again reminded that they must ensure that evaluation is carried out strictly as per value points for each answer as given in the Marking Scheme.

MARKING SCHEME

Senior School Certificate Examination (Supplementary), July 2024

ECONOMICS (Subject Code–030)


[Paper Code: 58/S/3]

Maximum Marks: 80

Q. No.	EXPECTED ANSWER / VALUE POINTS	Marks
SECTION -A (Macro Economics)		
1.	<p>Read the following statements carefully:</p> <p><i>Statement 1:</i> Gross National Product (GNP) can be greater than Gross Domestic Product (GDP) in a two-sector economy.</p> <p><i>Statement 2:</i> Net factor income from abroad is zero in a two-sector economy.</p> <p>In the light of the given statements, choose the correct alternative from the following:</p> <p>(A) Statement 1 is true and Statement 2 is false. (B) Statement 1 is false and Statement 2 is true. (C) Both Statements 1 and 2 are true. (D) Both Statements 1 and 2 are false.</p> <p>Ans. (B) Statement 1 is false and Statement 2 is true.</p>	1
2.	<p>Keeping all other factors constant, trade surplus may arise in the Balance of Payments of a nation because of _____. (Choose the correct alternative to fill in the blank)</p> <p>(A) rise in export of coffee to Japan (B) fall in import of banking services (C) fall in exports of cereals (D) rise in remittances to abroad</p> <p>Ans. (A) rise in export of coffee to Japan</p>	1
3.	<p>Suppose in a hypothetical economy, the Central Bank increases the reserve ratio from 10% to 25%. Keeping the amount of initial deposits constant at ₹ 1,000 crore, the amount of total money creation would be ₹_____ crore. (Choose the correct alternative to fill in the blank)</p> <p>(A) 10,000 (B) 4,000 (C) 6,000 (D) 5,000</p> <p>Ans. (B) 4,000</p>	1
4.	<p>_____ is the total volume of money held by the public, for the purpose of disposing off, at a particular point of time. (Choose the correct alternative to fill in the blank)</p> <p>(A) Term deposits (B) Demand for money (C) Money supply (D) Credit creation</p> <p>Ans. (C) Money supply</p>	1
5.	<p>Under _____ exchange rate system, the Central Bank and Government of the country do not have any authority to interfere in the exchange rate determination. (Choose the correct alternative to fill in the blank)</p> <p>(A) fixed (B) floating (C) managed floating (D) gold standard</p> <p>Ans. (B) floating</p>	1
6.	<p>Read the following statements carefully:</p> <p><i>Statement 1:</i> Average Propensity to Consume (APC) represents the change in total income with respect to a given change in total consumption.</p> <p><i>Statement 2:</i> When income changes, change in consumption (ΔC) can never exceed the change in income (ΔY).</p> <p>In the light of the given statements, choose the correct alternative from the following:</p>	

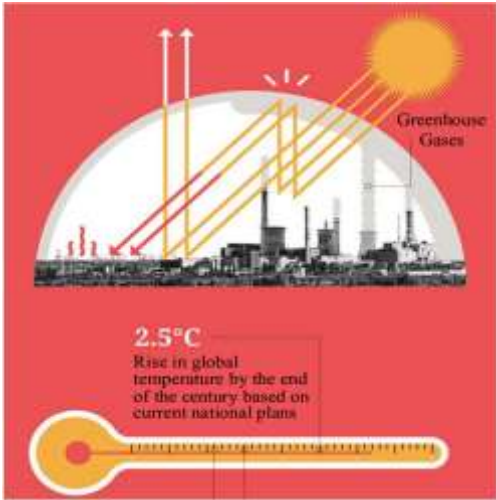
	<p>(A) Statement 1 is true and Statement 2 is false. (B) Statement 1 is false and Statement 2 is true. (C) Both Statements 1 and 2 are true. (D) Both Statements 1 and 2 are false. Ans. (B) Statement 1 is false and Statement 2 is true.</p>	1
7.	<p>In an economy, break-even level of income can be determined, when _____. (i) Marginal Propensity to Consume (MPC) = Marginal Propensity to Save (MPS) (ii) Income (Y) = Consumption (C) (iii) Savings (S) = 0 (iv) Average Propensity to Consume (APC) = Average Propensity to Save (APS) (Choose the correct alternative to fill in the blank)</p> <p>Alternatives: (A) Only (i) (B) (i) and (ii) (C) (ii) and (iii) (D) (i) and (iv) Ans. (C) (ii) and (iii)</p>	1
8.	<p>For a hypothetical economy, it is known that: Average Propensity to Save (APS) = 0.4 Income (Y) = ₹100 crore Autonomous Consumption (\bar{C}) = ₹ 10 crore The value of investment multiplier would be _____. (Choose the correct alternative to fill in the blank)</p> <p>(A) 5 (B) 2 (C) 4 (D) 10 Ans. (B) 2</p>	1
9.	<p>The _____ account of Balance of Payments reflects the net changes in financial claims on the Rest of the World (ROW). (Choose the correct alternative to fill in the blank)</p> <p>(A) Trade (B) Capital (C) Current (D) Visible Ans. (B) Capital</p>	1
10.	<p>Identify, which of the following options exhibits the proportional relation between consumption and disposable income.</p> <p>(A) Marginal Propensity to Consume (MPC) / Average Propensity to Consume (APC) (B) Marginal Propensity to Consume (MPC) < Average Propensity to Consume (APC) (C) Marginal Propensity to Consume (MPC) = Average Propensity to Consume (APC) (D) Marginal Propensity to Consume = 1 Ans. (C) Marginal Propensity to Consume (MPC) = Average Propensity to Consume (APC)</p>	1
11. (a)	<p>“Devaluation of currency and depreciation of currency have the same implications, but they originate from divergent sources.” Do you agree with the given statement? Give valid reason in support of your answer. Ans. Yes, devaluation and depreciation of currency may lead to fall in the value of domestic currency in relation to foreign currency. This may result in promotion/reduction of exports/imports, as the domestic/foreign goods become relatively cheaper/costlier. Hence, both devaluation and depreciation of currency have the same implications. However, devaluation of currency originates due to the actions taken by the government while depreciation of currency is caused by the market forces of demand and supply. (To be marked as a whole)</p> <p style="text-align: center;">OR</p>	3

(b)	<p>Outline the meaning and reasons behind narrowing down of Current Account Deficit.</p> <p>Ans. Current Account Deficit (CAD) arises when receipts from exports of goods & services and unilateral transfers are less than the payments for imports of goods & services and unilateral transfers.</p> <p>CAD may narrow down when either receipts from exports of goods and services and unilateral transfers increase or payments for imports of goods and services and unilateral transfers decrease.</p>	<p>1</p> <p>2</p> <p>3</p>																					
12.	<p>On the basis of the given data, estimate the value of Net Value Added at Factor Cost (NVA_{FC}):</p> <table border="1" data-bbox="161 412 1102 759"> <thead> <tr> <th>S. No.</th><th>Items</th><th>Amount (in ₹ crore)</th></tr> </thead> <tbody> <tr> <td>(i)</td><td>Sales</td><td>2,000</td></tr> <tr> <td>(ii)</td><td>Purchase of raw material</td><td>500</td></tr> <tr> <td>(iii)</td><td>Change in stock</td><td>300</td></tr> <tr> <td>(iv)</td><td>Gross Investment</td><td>500</td></tr> <tr> <td>(v)</td><td>Net Indirect Taxes</td><td>200</td></tr> <tr> <td>(vi)</td><td>Net Investment</td><td>300</td></tr> </tbody> </table> <p>Ans.</p> <p>Net Value Added at Factor Cost (NVA_{FC}) = (i) + (iii) – (ii) – [(iv) – (vi)] – (v)</p> <p>= 2,000 + 300 – 500 – [500 – 300] – 200</p> <p>= ₹ 1,400 crore</p>	S. No.	Items	Amount (in ₹ crore)	(i)	Sales	2,000	(ii)	Purchase of raw material	500	(iii)	Change in stock	300	(iv)	Gross Investment	500	(v)	Net Indirect Taxes	200	(vi)	Net Investment	300	<p>1 ½</p> <p>1</p> <p>½</p> <p>3</p>
S. No.	Items	Amount (in ₹ crore)																					
(i)	Sales	2,000																					
(ii)	Purchase of raw material	500																					
(iii)	Change in stock	300																					
(iv)	Gross Investment	500																					
(v)	Net Indirect Taxes	200																					
(vi)	Net Investment	300																					
13.	<p>“When ex-ante Aggregate Demand (AD) is more than ex-ante Aggregate Supply (AS) it results in an accumulation of unintended inventories.”</p> <p>Defend or refute the given statement, giving valid arguments in support of your answer.</p> <p>Ans. The given statement is refuted.</p> <p>If ex-ante Aggregate Demand is more than ex-ante Aggregate Supply, it implies that households and firms are planning to buy more than what the firms expected them to. As a result, inventories with the producers will fall below the desired level, which may lead to unintended fall in inventories.</p> <p style="text-align: right;">(To be marked as a whole)</p> <p style="text-align: center;">OR</p> <p>(b) Assume the following for a hypothetical economy:</p> <p>(i) Autonomous Consumption Expenditure (\bar{C}) = ₹ 25 crore</p> <p>(ii) Marginal Propensity to Save (MPS) = 0.1</p> <p>(iii) Level of Income (Y) = ₹ 2,000 crore</p> <p>(iv) Autonomous Investment (I) = ₹ 25 crore</p> <p>Is the economy in equilibrium situation? Justify your answer with valid calculations.</p> <p>Ans. Given, Autonomous Consumption Expenditure (\bar{C}) = ₹ 25 crore</p> <p>Marginal Propensity to Save (MPS) = 0.1</p> <p>Level of Income (Y) = ₹ 2,000 crore</p> <p>Autonomous Investment (I) = ₹ 25 crore</p> <p>Marginal Propensity to Consume (MPC) = 1 - MPS</p> <p style="text-align: center;">⇒ 1 - 0.1 = 0.9</p> <p style="text-align: center;">At equilibrium level of income, Y = C + I</p> <p>Substituting the value of Y in (C + I)</p> <p>C + I = \bar{C} + (MPC)Y + I</p> <p>= 25 + 0.9 x 2000 + 25</p> <p>= ₹ 1,850 crore</p> <p>Y > C + I at an income level of ₹ 2,000 crore.</p> <p>Thus, the economy is not in equilibrium at an income level of ₹ 2,000 crore.</p>	<p>4</p> <p>1</p> <p>1</p> <p>½</p> <p>½</p> <p>½</p> <p>½</p>																					

	<p><u>Alternative answer:</u> At equilibrium level of income, $S = I$ Substituting the value of Y in S $S = -\bar{C} + (MPS)Y$ $= -25 + (0.1) 2000$ $= ₹ 175 \text{ crore}$ $S > I$ at an income level of ₹ 2,000 crore. Thus, the economy is not in equilibrium at an income level of ₹ 2,000 crore.</p>	<p>1</p> <p>1 ½ ½ ½ ½</p> <p>4</p>
14.	<p>Study the following image:</p>  <p>(i) Identify the indicated situation. (ii) Explain any two steps which may be taken by RBI to correct the situation.</p> <p>Ans. (i) The above image indicates the situation of inflation. (ii) To combat the situation of inflation, the two steps taken by the Reserve Bank of India (RBI) may be:</p> <ul style="list-style-type: none"> The Government Securities are sold by the RBI in the open market. It will reduce the availability of funds with commercial banks, which in turn curtails their lending capacity. Consequently, the money supply in the economy falls. Thereby, decreasing Aggregate Demand and thus reducing inflation in the economy. The increase in the Bank Rate by the RBI, leads to an increase in the lending rates by the commercial banks. This makes borrowing costlier for the general public. Thereby, discouraging them from borrowing more. As a result, Aggregate Demand in the economy falls, consequently reducing inflation. <p>(Any other valid step to be awarded marks)</p>	<p>1</p> <p>1 ½</p> <p>1 ½</p> <p>4</p>
15.	<p>“The Reserve Bank of India (RBI) performs the same function for the government as the commercial banks perform for the general public.” Discuss briefly any two such functions performed by the Central Bank for the Government of India.</p> <p>Ans. The Reserve Bank of India (RBI) as the banker to the government maintains account, accepts receipts and makes payments, carries out exchange, remittance, and other banking operations. The Reserve Bank of India advances loans to the government to meet its requirements, in case of financial crisis. Thus, the Reserve Bank of India facilitates the same banking functions for the government just as the commercial banks do for the general public. (To be marked as a whole)</p>	<p>4</p>
16.	<p>Differentiate between factor income and transfer income.</p> <p>(a) Ans. Factor income is the income received by the factors of production for rendering their factor services to the firms. It is included in the estimation of national income. Whereas; Transfer income is unilateral income received without rendering any goods and services. It is not included in the estimation of national income.</p>	<p>1 ½</p> <p>1 ½</p>

(b)	<p>“Externalities can be classified into negative or positive, however it is not necessary that they will be directly correlated with the Gross Domestic Product.”</p> <p>Do you agree with the given statement? Give valid reasons in support of your answer.</p> <p>Ans. Yes, externalities may not directly correlate with the Gross Domestic Product (GDP) as externalities do not have any market in which they can be bought/sold. GDP does not take into account any such negative/positive impact on the third-party as they are not penalised/paid for such harms/benefits. Consequently, it may lead to overestimation/underestimation of the actual welfare of the economy.</p> <p style="text-align: right;">(To be marked as a whole)</p>	<p style="text-align: center;">3</p> <hr/> <p style="text-align: center;">6</p>
<p>17.</p> <p>(a)</p> <p>(i)</p> <p>(ii)</p> <p>(b)</p> <p>(i)</p> <p>(ii)</p>	<p>“The Union Budget 2023 – 24 had proposed an allocation of ₹ 22,138 crore to the Micro, Small and Medium Enterprise (MSME) Ministry.”</p> <p>Identify and explain the objective that the government is trying to achieve with the proposed expenditure.</p> <p>Ans. The highlighted government budget objective is the ‘allocation function’.</p> <p>The government with the proposed allocation of ₹ 22,138 crore to the Micro, Small and Medium Enterprise (MSME) Ministry may seek to enhance national output and employment opportunities. In a country like India, such steps are fruitful for achieving socio-economic goals and overall growth of the nation.</p> <p>State the formulae for calculating fiscal deficit and revenue deficit.</p> <p>Ans. Fiscal Deficit = Total Expenditure – Total Receipts (excluding borrowings)</p> <p>Revenue Deficit = Revenue Expenditure – Revenue Receipts</p> <p style="text-align: center;">OR</p> <p>“Tax revenues, an important component of revenue receipts, can be further classified into two categories.”</p> <p>Imagine yourself as a member of Department of Revenue of the Government of India. Help your friend to identify and differentiate between the two categories of taxes.</p> <p>Ans. The two categories of taxes are direct taxes and indirect taxes.</p> <p>Direct taxes are those taxes whose impact and incidence lie on the same entity.</p> <p style="text-align: center;">Whereas;</p> <p>Indirect taxes are those taxes whose impact and incidence may lie on different entities.</p> <p>“A budget can be deficit, surplus or balanced.”</p> <p>Do you agree with the given statement? Give valid reasons in support of your answer.</p> <p>Ans. Yes, a budget can be deficit, surplus or balanced, it depends on the total receipts and expenditure.</p> <p>Balance Budget: When the total receipts of the government equal its total expenditure.</p> <p>Surplus Budget: When the total receipts of the government exceed its total expenditure.</p> <p>Deficit Budget: When the total receipts of the government fall short of its total expenditure.</p> <p style="text-align: right;">(To be marked as a whole)</p>	<p style="text-align: center;">1</p> <p style="text-align: center;">3</p> <p style="text-align: center;">1</p> <p style="text-align: center;">1</p> <p style="text-align: center;">6</p> <p style="text-align: center;">1</p> <p style="text-align: center;">1</p> <p style="text-align: center;">1</p> <p style="text-align: center;">3</p> <hr/> <p style="text-align: center;">6</p>
<p>SECTION – B</p> <p>(Indian Economic Development)</p>		
<p>18.</p>	<p>_____ can be classified as one of the alternative sources of diversification from farm output.</p> <p style="text-align: right;">(Choose the correct alternative to fill in the blank)</p> <p>(A) Green Revolution (B) Horticulture</p> <p>(C) Organic Farming (D) Conventional Farming</p> <p>Ans. (B) Horticulture</p>	<p style="text-align: center;">1</p>
<p>19.</p>	<p>Read the following statements – Assertion (A) and Reason (R). Choose the correct alternative given below:</p> <p><i>Assertion (A):</i> Human capital cannot be traded in the market, whereas its services can be traded.</p> <p><i>Reason (R):</i> Human capital is intangible in nature.</p>	

	<p>Alternatives:</p> <p>(A) Both Assertion (A) and Reason (R) are true and Reason (R) is the correct explanation of Assertion (A).</p> <p>(B) Both Assertion (A) and Reason (R) are true, but Reason (R) is not the correct explanation of Assertion (A).</p> <p>(C) Assertion (A) is true, but Reason (R) is false.</p> <p>(D) Assertion (A) is false, but Reason (R) is true.</p> <p>Ans. (A) Both Assertion (A) and Reason (R) are true and Reason (R) is the correct explanation of Assertion (A).</p>	1
20.	<p>_____ measure introduced in China led to the decline in its population as well as sex ratio. (Choose the correct alternative to fill in the blank)</p> <p>(A) Nationalisation of capital goods</p> <p>(B) Denationalisation of capital goods</p> <p>(C) One-child norm</p> <p>(D) Two-child norm</p> <p>Ans. (C) One-child norm</p>	1
21.	<p>_____ is geographically the largest nation among India, China and Pakistan and its density is _____ among the three nations. (Choose the correct alternative to fill in the blanks)</p> <p>(A) China, highest (B) Pakistan, lowest</p> <p>(C) India, lowest (D) China, lowest</p> <p>Ans. (D) China, lowest</p>	1
22.	<p>Read the following statements carefully :</p> <p><i>Statement 1:</i> The commercialisation of Indian agriculture was coercively introduced by the colonial government.</p> <p><i>Statement 2:</i> Britishers had a two-fold motive behind the enforcement of food crops production.</p> <p>In the light of the given statements, choose the correct alternative from the following:</p> <p>(A) Statement 1 is true and Statement 2 is false.</p> <p>(B) Statement 1 is false and Statement 2 is true.</p> <p>(C) Both Statements 1 and 2 are true.</p> <p>(D) Both Statements 1 and 2 are false.</p> <p>Ans. (A) Statement 1 is true and Statement 2 is false.</p>	1
23.	<p>In 1965, Mao introduced the _____ under which students and professionals were sent to work and learn from the countryside. (Choose the correct alternative to fill in the blank)</p> <p>(A) Great Leap Forward Campaign</p> <p>(B) Commune System</p> <p>(C) Great Proletarian Cultural Revolution</p> <p>(D) Medium Term Development Plan</p> <p>Ans. (C) Great Proletarian Cultural Revolution</p>	1
24.	<p>Britain maintained a monopoly control over India's exports and imports while the rest was allowed with a few other countries like _____. (Choose the correct alternative to fill in the blank)</p> <p>(i) China</p> <p>(ii) Ceylon (Sri Lanka)</p> <p>(iii) Persia (Iran)</p> <p>Alternatives:</p> <p>(A) Only (i) (B) (i) and (ii)</p> <p>(C) (ii) and (iii) (D) (i), (ii) and (iii)</p> <p>Ans. (D) (i), (ii) and (iii)</p>	1
25.	<p>Identify the alternate marketing channel that operates majorly in Punjab, Haryana and Rajasthan. (Choose the correct alternative)</p> <p>(A) Apni Mandi</p> <p>(B) Hadapsar Mandi</p>	

	(C) Rythu Bazars (D) Uzhavar Sandies Ans. (A) Apni Mandi	1
26.	Identify the correct statement from the following: (A) India adopted the socialistic economic system after Independence. (B) Indian economic planning was implemented through Five Year Plans. (C) Land reforms under industrial sector were implemented by the Government of India. (D) Policy initiatives in the industrial sector were responsible for decline in Gross Domestic Product (GDP) in India. Ans. (B) Indian economic planning was implemented through Five Year Plans.	1
27.	Under the economic reforms introduced in China in 1978, _____ were set up to attract foreign investors. (Choose the correct alternative to fill in the blank) (A) Remittance Zones (B) Land Zones (C) Special Commune Zones (D) Special Economic Zones Ans. (D) Special Economic Zones	1
28.	<p>(a) “Green Revolution made India self-sufficient in food grains, but was criticized on ecological grounds.” Do you agree with the given statement? Present valid reasons in support of your answer. Ans. Yes, Green Revolution in India increased agricultural production and productivity leading to self-sufficiency of food grains through the use of HYV seeds, chemical fertilisers, pesticides, etc. These chemical fertilisers and pesticides led to soil degradation/contamination of food products and various water bodies. Thus, although Green Revolution made India self-sufficient in food grain production but was criticised on ecological grounds. (To be marked as a whole)</p> <p style="text-align: center;">OR</p> <p>(b) Enumerate any three infrastructural development activities undertaken by the colonial government in India. Ans. Three infrastructural development activities undertaken by the colonial government in India were as follows:</p> <ul style="list-style-type: none"> • Introduction of railways • Development of inland trade and sea lanes • Introduction of electric telegraph <p style="text-align: right;">(Any other valid point to be awarded marks)</p>	<p style="text-align: center;">3</p> <p style="text-align: right;">1 1 1</p> <p style="text-align: right;">3</p>
29.	<p>Identify the situation depicted in the given figure and explain any one strategy to effectively overcome the problem.</p>  <p>Ans. The situation depicted in the given figure is ‘Global Warming’. One of the strategies to effectively overcome the problem of Global Warming is the usage of wind energy. Wind power is a popular source of sustainable renewable energy. In the areas where speed of wind is usually high, wind mills can provide electricity without any adverse impact on environment. (Any other valid strategy to be awarded marks)</p>	<p style="text-align: right;">1 2</p>

	<p><i>Note: The following question is for the Visually Impaired Candidates only in lieu of Q. No. 29.</i></p> <p>Explain any one strategy to effectively overcome the problem of global warming.</p> <p>Ans. One of the strategies to effectively overcome the problem of Global Warming is the usage of wind energy. Wind power is a popular source of sustainable renewable energy. In the areas where speed of wind is usually high, windmills can provide electricity without any adverse impact on the environment.</p> <p style="text-align: right;">(Any other valid strategy to be awarded marks)</p>	<p>3</p> <p>3</p>																																									
<p>30.</p> <p>(a)</p>	<p>“A sound agricultural marketing system works as the backbone of any agro-system of any nation.”</p> <p>Justify the above statement by listing any two steps taken by the Indian government in this direction.</p> <p>Ans. Two steps taken by the Indian government to improve agricultural marketing are:</p> <ul style="list-style-type: none">• Regulation of markets by the government to create orderly and transparent marketing conditions.• Provision of physical infrastructure facilities like roads, railways, warehouses etc. <p style="text-align: right;">(Any other valid step to be awarded marks)</p> <p style="text-align: center;">OR</p>	<p>2</p> <p>2</p> <p>4</p>																																									
<p>(b)</p>	<p>“Over the past few years, India has witnessed a shift from traditional conventional farming to natural/organic farming.”</p> <p>Discuss briefly any two reasons behind this shift towards organic produce.</p> <p>Ans. Two reasons behind the shift from traditional conventional farming to organic farming:</p> <ul style="list-style-type: none">• Organically grown food has more nutritional value than the food produced through conventional farming.• Organic farming in comparison to traditional conventional farming is pesticide-free and environmentally sustainable. <p style="text-align: right;">(Any other valid reason to be awarded marks)</p>	<p>2</p> <p>2</p> <p>4</p>																																									
<p>31.</p>	<p>“Expenditure on different levels of education in India is in the same proportion.”</p> <p>Defend or refute the given statement, giving valid reasons.</p> <p>Ans. The given statement is refuted. In India, elementary education takes a major share of total education expenditure and the share of the higher/tertiary education is the least. Though, on an average, the government spends less on tertiary education, ‘expenditure per student’ in tertiary education is higher than that of elementary. Moreover, the revenues from education cess have been earmarked for spending on elementary education. In addition to this, the government sanctions a large outlay for the promotion of higher education and new loan schemes for students to pursue higher education.</p> <p style="text-align: right;">(To be marked as a whole)</p>	<p>4</p>																																									
<p>32.</p>	<p>On the basis of the data given below, outline and discuss the shift in employment and output for China and Pakistan:</p> <p style="text-align: center;">Sectoral Share of Employment and GVA (%) in 2018 –2019</p> <table><tr><th rowspan="2">Sector</th><th colspan="3">Contribution to GVA</th><th colspan="3">Distribution of workforce</th></tr><tr><th>India</th><th>China</th><th>Pakistan</th><th>India</th><th>China</th><th>Pakistan</th></tr><tr><td>Agriculture</td><td>16</td><td>7</td><td>24</td><td>43</td><td>26</td><td>41</td></tr><tr><td>Industry</td><td>30</td><td>41</td><td>19</td><td>25</td><td>28</td><td>24</td></tr><tr><td>Services</td><td>54</td><td>52</td><td>57</td><td>32</td><td>46</td><td>35</td></tr><tr><td>Total</td><td>100</td><td>100</td><td>100</td><td>100</td><td>100</td><td>100</td></tr></table> <p>Source: Human Development Report 2019: Key Indicators of Asia and Pacific 2019.</p> <p>Ans. The given data pertains to the sectoral share of employment and Gross Value Added (GVA). Due to topographic and climatic conditions, the cultivable area in China</p>	Sector	Contribution to GVA			Distribution of workforce			India	China	Pakistan	India	China	Pakistan	Agriculture	16	7	24	43	26	41	Industry	30	41	19	25	28	24	Services	54	52	57	32	46	35	Total	100	100	100	100	100	100	
Sector	Contribution to GVA			Distribution of workforce																																							
	India	China	Pakistan	India	China	Pakistan																																					
Agriculture	16	7	24	43	26	41																																					
Industry	30	41	19	25	28	24																																					
Services	54	52	57	32	46	35																																					
Total	100	100	100	100	100	100																																					

	<p>is relatively smaller than that of Pakistan. Hence, the contribution of the agricultural sector to the GVA in China is 7% employing 26% of its workforce, whereas in Pakistan it is 24% employing 41% of its workforce. Owing to rapid industrialisation in China, the contribution of the industrial sector to GVA stands at 41% with 28% of the workforce as against corresponding figures of 19% and 24% in Pakistan.</p> <p>The contribution of the Service sector stands at 57% and 52% to GVA with corresponding 35% and 46% to the workforce, respectively in Pakistan and China.</p> <p>(To be marked as a whole)</p>	4
33.	<p>Read the following text carefully:</p> <p>With the July 1991 budget, there was a clear switch in favour of a move towards an outward-oriented, market-based economy. The liberalisation steps initiated in the budget were very comprehensive although the pace remained gradual and there were occasional hiccups.</p> <p>The 1991 reforms did away with import licensing on all but a handful of intermediate inputs and capital goods.</p> <p>Consumer goods, accounting for approximately 30% of tariff lines, remained under licensing, only a decade later, after a successful challenge by India's trading partners at the World Trade Organisation (WTO), were these goods freed of licensing.</p> <p>Today, except for a handful of goods that are disallowed on environmental/health/safety grounds, all goods may be imported without a license or other restrictions.</p> <p>With the removal of licensing, the tariff rates became effective restrictions on imports. Therefore, a major task of the reforms has been to lower the tariff rates. Tariff reductions have been mainly confined to non-agricultural, industrial goods.</p> <p>Therefore, the liberalization applies strictly to these goods. The reduction in tariffs has been achieved through a gradual compression of the tariff rates. A simultaneous rationalization of the tariff structure through a reduction in the number of tariff bands helped in this direction.</p> <p>On the basis of the given text and common understanding, answer the following questions:</p> <p>(i) "The trade liberalization reforms initiated in 1991 budget were very comprehensive." Justify the given statement explaining any two trade reforms introduced in 1991. Ans. The comprehensive trade liberalization reforms were initiated in 1991 budget to promote the efficiency of local industries and adoption of modern technologies. Two trade reforms introduced in 1991 were: <ul style="list-style-type: none"> • dismantling of quantitative restrictions on imports and exports. • removal of licensing procedures for imports. <p>(To be marked as a whole) (Any other valid point to be awarded marks)</p> </p> <p>(ii) State any two areas in which tariff reductions were introduced. Ans. Two areas in which tariff reductions were introduced: <ul style="list-style-type: none"> • non-agricultural goods • industrial goods <p>(Any other valid point to be awarded marks)</p> </p>	<p>4</p> <p>1</p> <p>1</p> <p>6</p>
34.	<p>(a) "As an economy grows, the number of employed persons in an economy also increases; however, since 1991 India has come up as an exception to this."</p> <p>(i) Do you agree with the given statement? Give valid arguments in support of your answer.</p>	

	<p>Ans. Yes, after the introduction of economic reforms, in the late 1990s, the Indian economy experienced a rapid rise in the GDP growth rate. However, employment growth started declining, in spite of rising GDP i.e., India started experiencing the problem of Jobless Growth. The Indian economy was able to produce more goods and services without a corresponding rise in the number of employed persons.</p>	4
(ii)	<p>Define disguised unemployment with a suitable example.</p> <p>Ans. Disguised unemployment refers to a situation when the person seems to be employed but is not contributing to the output i.e., his marginal productivity is zero. For example, suppose a farmer with four acres of land and two workers can produce 100 quintals of wheat. Even if he employs one more worker, the total output remains unchanged. Hence, the contribution made by the additional worker to the total output is zero and thus can be said to be in a situation of disguised unemployment.</p>	1
	OR	1
(b)	<p>“Neha has been working in a multinational corporation since the past five years on the payroll of the company”.</p> <p>Identify and briefly explain the type of employment indicated in the above statement.</p> <p>Ans. Neha is a regular salaried employee.</p> <p>When a worker is engaged by someone or an enterprise and paid his or her wages on a regular basis, they can be categorized as regular salaried employees. Such employees are entitled to receive regular compensation from their employer along with other social security benefits.</p>	6
(i)		1
		2
(ii)	<p>Name the indicator that is generally used for analysing the employment situation in a country. Also discuss its importance.</p> <p>Worker-population ratio is an indicator which is used for analysing the employment situation in the country.</p> <p>This ratio is useful in knowing the proportion of population that is actively contributing to the production of goods and services of a country. Higher the worker population ratio, higher the engagement of people in economic activities and vice versa.</p>	1
		2
		6

* * *